

WOJEWÓDZKI KONKURS PRZEDMIOTOWY
Z HISTORII
DLA UCZNIÓW GIMNAZJÓW
2016/2017

TEST
ELIMINACJE SZKOLNE

Numer identyfikacyjny

--

Wypełnia Szkolna Komisja Konkursowa

Imiona i nazwisko

Wypełnia Szkolna Komisja Konkursowa

	Razem	
Punkty do uzyskania	75	w %
Punkty uzyskane		

Czas trwania testu: **60 minut** bez przerwy

.....

INSTRUKCJA DLA UCZESTNIKÓW:

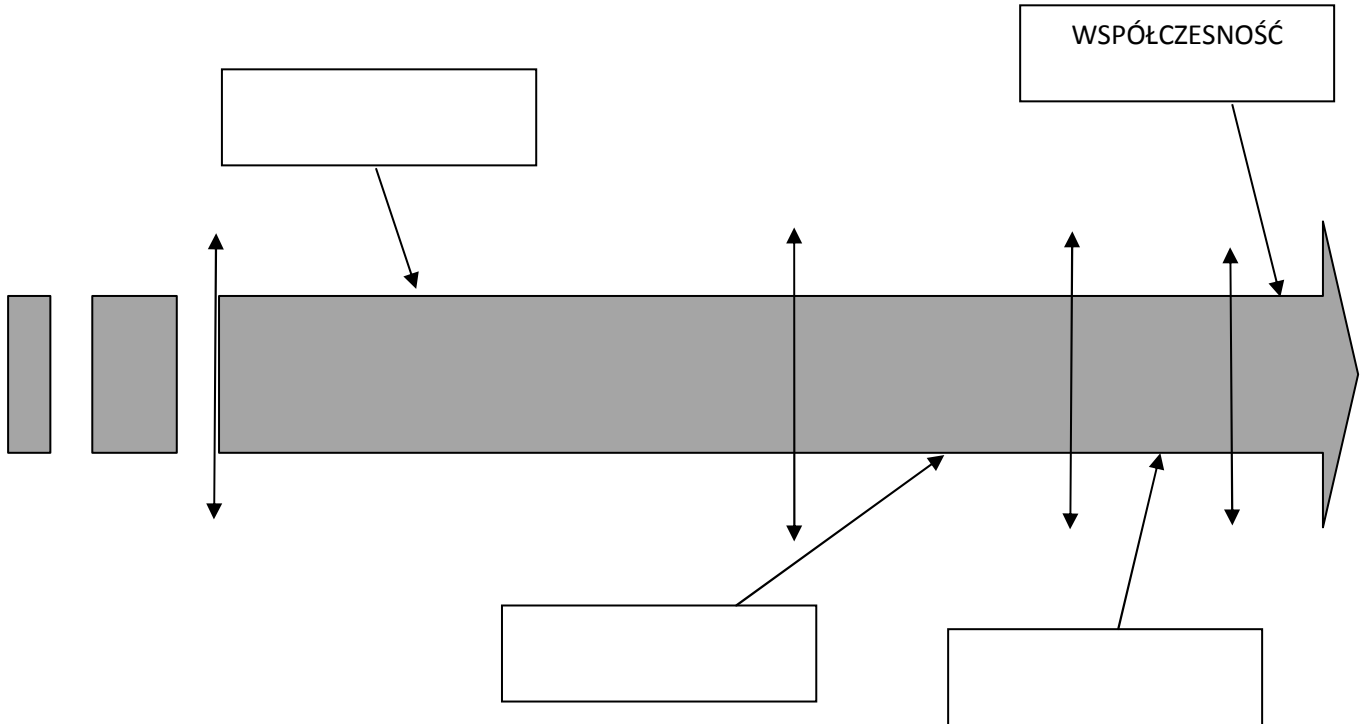
Masz przed sobą test, który zawiera zadania otwarte i zamknięte. Pamiętaj! W pytaniach zamkniętych należy podkreślić prawidłową odpowiedź.

W sytuacji, gdy uznasz, że źle zaznaczyłaś/es odpowiedź skreśl ją i podkreśl prawidłową. Może być tylko jedna poprawka! Czytaj uważnie każde polecenie.

POWODZENIA!

Zadanie 1 (0-1p.)
Uzupełnij schemat.

EPOKI HISTORYCZNE



Zadanie 2 (0-1p.)
Wymień chronologicznie dowolne trzy style architektoniczne.

- A.....
- B.....
- C.....

Zadanie 3 (0-5p.)
Do podanych wydarzeń dopisz epokę w dziejach ludzkości.

- A. *Wojny punickie*
- B. *Benedykt z Nursji zakłada klasztor na Monte Cassino*.....
- C. *Wydanie dzieła „O obrotach sfer niebieskich”*
- D. *Budowa katedry Notre Dame w Paryżu*.....
- E. *Rządy Iwana IV Groźnego*

Zadanie 4 (0-4p.)

Uzupełnij tabelę związaną z prawodawstwem.

NAZWA DOKUMENTU	WIEK	KRAJ / MIASTO - PAŃSTWO
Prawo XII tablic	V w. p.n.e.	
	VII w. p.n.e.	Ateny
Kodeks Justyniana		Cesarstwo Wschodniorzymskie
Kodeks Hammurabiego	XVIII w. p.n.e.	

Zadanie 5 (0-4p.)

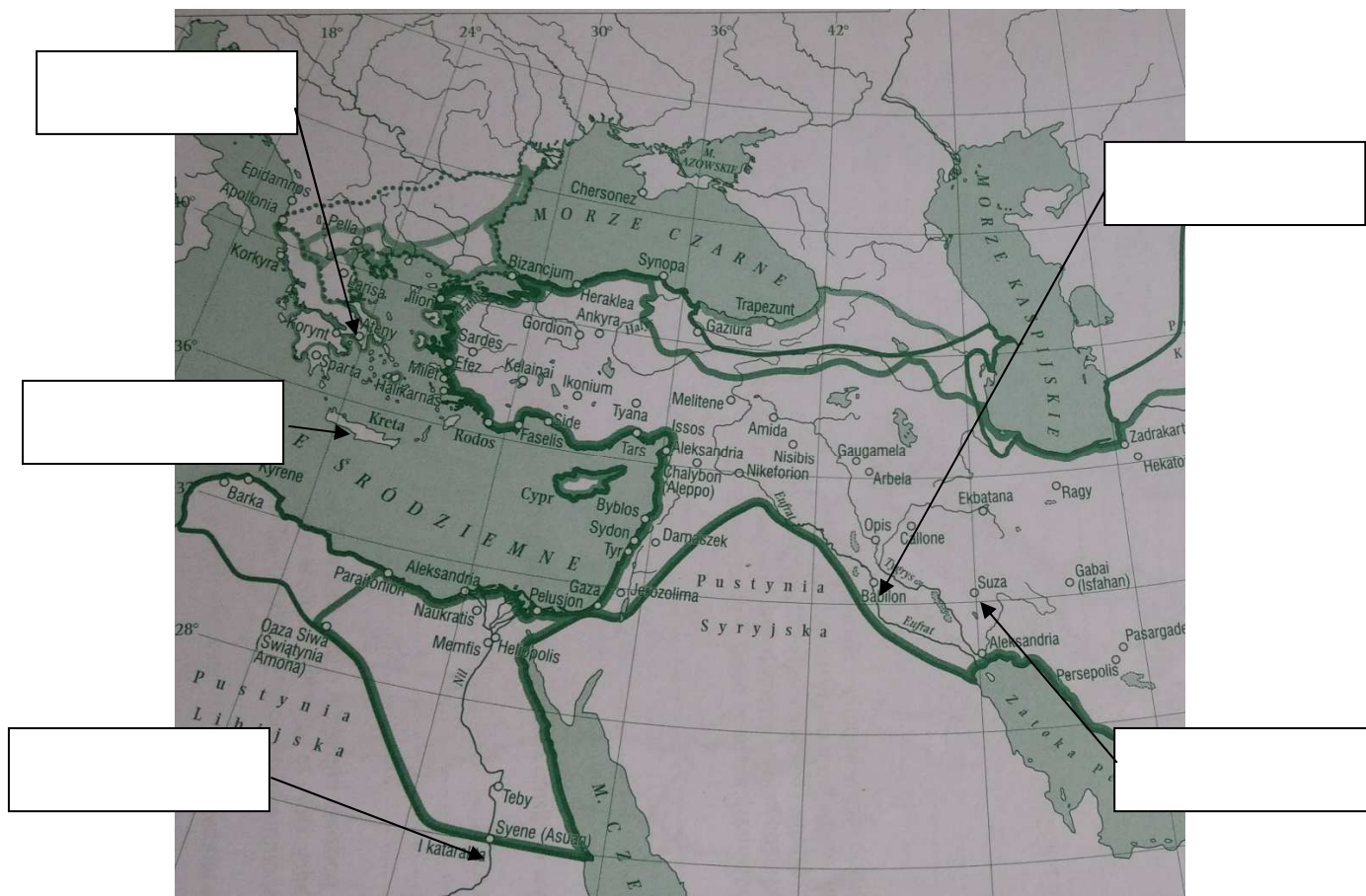
Podane przykłady architektury starożytnej przyporządkuj do odpowiedniego miejsca na mapie.

A. Brama Isztar

B. Świątynia w Abu Simbel

C. Partenon

D. Pałac w Knossos



Persja i podboje Aleksandra Wielkiego [w:] E. Olczak, Historia. Zeszyt do ćwiczeń..., Warszawa 2006

Zadanie 6 (0-5p.)

Uzupełnij tabelę odpowiednikami *bogów greckich i rzymskich*.

GRECJA	RZYM
	<i>Jowisz</i>
	<i>Ceres</i>
<i>Artemida</i>	
<i>Hades</i>	
	<i>Wulkan</i>

Zadanie 7 (0-2p.)

Podkreśl wydarzenia związane z panowaniem Bolesława Chrobrego.

- A. *Bitwa pod Cedynią,*
- B. *Obrona Głogowa,*
- C. *Misja chrystianizacyjna biskupa Wojciecha na ziemię Prusów,*
- D. *Powstanie arcybiskupstwa w Gnieźnie,*
- E. *Powstanie biskupstwa w Poznaniu.*

Zadanie 8 (0-1p.)

Podkreśl właściwy ciąg chronologiczny.

- A. *Traktat w Verdun, reforma języka łacińskiego, koronacja Karola Wielkiego.*
- B. *Chrzest Chlodwiga, chrzest Mieszka, schizma wschodnia.*
- C. *Sprowadzenie Krzyżaków do Polski, najazd Tatarów na ziemię polskie, najazd Brzetysława.*

Zadanie 9 (0-4p.)

Do podanych definicji dopisz pojęcie.

- A. *Średniowieczne stowarzyszenie łączące interesy kupców.*

B. Organizacja skupiająca rzemieślników jednej specjalności.

.....

C. Człowiek, który w imieniu właściciela zakładał miasta lub wsie.

.....

D. Organ miejski posiadający prawa sędziowskie.

.....

Zadanie 10 (0-4p)

Odpowiedz na pytania dotyczące soboru w Konstancji.

A. W jakich latach trwał sobór?

.....

B. Z inicjatywy jakiego świeckiego władcy zwołany został sobór?

.....

C. Podaj jeden z celów soboru?

.....

D. Kto reprezentował Polskę na soborze?

.....

Zadanie 11 (0-4p.)

Na ilustracjach przedstawieni są 4 władcy polscy wg pocztu Jana Matejki i ci sami władcy wg pocztu Bacciarellego.

Podpisz ilustracje.



www.bacciarelli.com



www.pinakoteka.pl



www.bacciarelli.com



www.pinakoteka.pl



www.bacciarelli.com



www.pinakoteka.pl

.....



www.bacciarelli.com



www.pinakoteka.pl

.....

Zadanie 12 (0-1p.)

Spośród podanych wydarzeń literą **A** zaznacz chronologicznie najstarsze, a literą **B** chronologicznie najmłodsze.

- Misja chrystianizacyjna Cyryla i Metodego.

- Powstanie Państwa Wielkomorawskiego.

- Powstanie Państwa Samona.

- Misja chrystianizacyjna biskupa Wojciecha na ziemię Prusów.

Zadanie 13 (0-3p.)

Odpowiedz na pytania dotyczące chrztu Polski.

A. Który zakon przyczynił się przede wszystkim do chrystianizacji Polski w X wieku?

.....

B. W którym grodzie powstało pierwsze biskupstwo?

.....

C. Kto był pierwszym biskupem misyjnym w kraju Mieszka?

.....

Zadanie 14 (0-3p.)

Wykonaj polecenia związane z konfliktami polsko-krzyżackimi:

A) Wymień miasto, w którym zawarto pokój z Zakonem:

- *po Wielkiej Wojnie*

- *po wojnie 13 -letniej*

B) Spośród wymienionych postaci podkreśl te, które nie brały udziału w Wielkiej Wojnie.

Witold, Piotr Dunin, Zawisza Czarny, Kazimierz Jagiellończyk, Jan Długosz,

Władysław Jagiełło

Zadanie 15 (0-2p.)

Masz podane cezury czasowe kończące średniowiecze. Spośród nich wybierz dwie daty i dopisz wydarzenia.

1492 r. -

.....

1453 r. -

.....

1440-1460 r. -

.....

Zadanie 16 (0-4p.)

Odowiedz na pytania związane z wielkimi odkryciami geograficznymi.

A) Jakie dwa kraje europejskie rywalizowały w poszukiwaniach drogi morskiej do Indii?

.....

B) Wymień władców, w imieniu których wyprawę organizował Krzysztof Kolumb?

.....

C) Dlaczego tereny odkryte przez Krzysztofa Kolumba nazwano Indiami Zachodnimi?

.....

.....

.....

D) Spośród wymienionych statków podkreśl, statek Ferdynanda Magellana.

Santa Maria, Pinta, Victoria, Nina

Zadanie 17 (0-3p.)

Wyjaśnij pojęcia:

Humanizm –

.....

.....

Człowiek renesansu –

.....

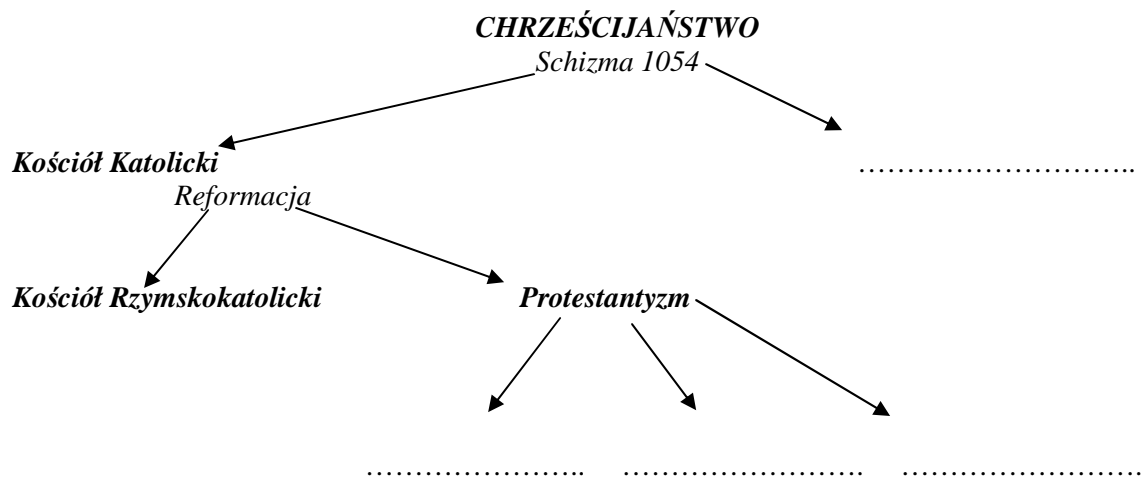
.....

Mecenat –

.....

Zadanie 18 (0-4p.)

Uzupełnij schemat *Podział chrześcijaństwa*.



Zadanie 19 (0-3p.)

Wyjaśnij pochodzenie nazwy wg przykładu.

Król – od imienia Karola Wielkiego

A) Chrześcijaństwo -

.....

B) Ewangelizm -

.....

C) Anglikanizm -

.....

Zadanie 20 (0-3p.)

Na podstawie fragmentu biografii dopisz postać, o którą chodzi.

POLSKA ZŁOTEGO WIEKU

Jego fraszki *Na zdrowie*, *Na lipę* do dzisiaj nie straciły na aktualności.
Po śmierci swojej córki Urszuli, napisał *Treny*.

.....

Pochodził z Nagłowic. Żartował, że nie znał zbyt dobrze łaciny i dlatego zaczął pisać po polsku.
Do historii przeszło jego zdanie „A niechaj narodowie wżdy postronni znają, iż Polacy nie gęsi,
iż swój język mają”.


.....

Był pisarzem politycznym. W swoich utworach piętnował przywary szlachty polskiej. Jego
najbardziej znane dzieło *O naprawie Rzeczypospolitej*.

.....

Zadanie 21 (0-2p.)

Polska w XVI w. słynęła z produkcji i handlu zbożem.



www.emaze.com

A) Rozpoznaj port, w którym przeladowywano zboże.

.....

B) Nazwij urządzenie portowe służące do załadunku zboża.

.....

Zadanie 22 (0-2p.)

Odpowiedz na pytania związane z rozwojem handlu w Polsce w XVI w.

A. Jak nazywano ludzi przewożących towary rzekami?

.....

B. Jak nazywano statki rzeczne służące do spławiania towarów rzeką (nazwa pochodzi od rzemieślników, którzy zajmowali się budową statków)

.....

Zadanie 23 (0-4p.)

Wpisz w odpowiednie miejsca tabeli po dwie cechy związane z dualizmem gospodarczym w Europie w XVI w.




Europa zachodnia	Europa Wschodnia

Zadanie 24 (0-2p.)




Szlachta i mieszczaństwo ze względu na zamożność dzielili się na grupy. Dopisz w odpowiednim miejscu właściwe określenie grupy szlacheckiej i mieszczaństwa.

pospólstwo, magnateria, patrycjat, gołota, plebs, szlachta średnia

SZLACHTA

MIESZCZAŃSTWO

Zadanie 25 (0-2p.)

Wymień dwa postanowienia hołdu pruskiego.

A.....

.....

.....

B.....

.....

.....

Zadanie 26 (0-2p.)

Chronologia materiału konkursowego obejmuje określone cezury czasowe.

Do podanych dat dopisz wydarzenie:

1572 –

1598 -

BRUDNOPIS