

ŁÓDZKIE
CENTRUM
DOSKONALENIA
NAUCZYCIELI
I KSZTAŁCENIA
PRAKTYCZNEGO



--	--	--	--	--

KOD UCZNIĄ

WOJEWÓDZKI KONKURS PRZEDMIOTOWY
z GEOGRAFII
DLA UCZNIÓW GIMNAZJÓW
2016/2017
ELIMINACJE REJONOWE

Wypełnia Rejonowa Komisja Konkursowa

Liczba uzyskanych punktów	
% uzyskanych punktów	

Podpisy członków RKK

.....

.....

Podpis przewodniczącego RKK

.....

Drogi Gimnazjalisto!

Przeczytaj uważnie zamieszczoną poniżej instrukcję.

1. Test zawiera **32 zadania** geograficzne różnego typu. Za poprawne rozwiązanie wszystkich zadań możesz uzyskać **60 punktów**. Jeżeli zdobędziesz co najmniej **51 punktów (85%)**, weźmiesz udział w eliminacjach wojewódzkich konkursu.
2. Zadania rozwiązuj zgodnie z poleceniami.
3. Pisz czytelnie. Używaj długopisu z **czarnym** lub **niebieskim wkładem**. Pamiętaj, że prace pisane ołówkiem nie będą sprawdzane przez komisję.
4. **Nie używaj korektora**, a błędne zapisy wyraźnie przekreśl lub obwiedź kółkiem i zaznacz inną odpowiedź.
5. Podczas rozwiązywania zadań konkursowych **możesz korzystać z linijki, lupy i kalkulatora prostego**.
6. Na rozwiązanie wszystkich zadań masz **90 minut**.
7. Pracuj samodzielnie korzystając z własnej wiedzy i umiejętności!

Życzymy powodzenia!

Zadanie 1 (2p.)

Przyporządkuj regionom Europy po jednym obiekcie geograficznym. Ich nazwy wybierz z ramki.

Nizina Nadkaspijska, Cypr, Wyspy Owcze, Bałkany, Półwysep Bretoński

Region Europy	Obiekty geograficzne
<i>Północna</i>	
<i>Wschodnia</i>	
<i>Zachodnia</i>	
<i>Południowa</i>	

Zadanie 2 (1p.)

Podkreśl trzy informacje mające związek z funkcjami metropolitalnymi Paryża.

Centrum usług finansowych i korporacji przemysłowych / Siedziba Międzynarodowego Biura Miar i Wag / Siedziba ONZ/Siedziba OPEC / Światowe centrum mody

Zadanie 3 (2p.)

Zapisz trzy przykłady wpływu gór na gospodarkę krajów alpejskich.

1.
.....
2.
.....
3.
.....

Zadanie 4 (2p.)

Korzystając z mapy i własnej wiedzy wykonaj zadania.



Źródło: opracowanie własne

A. Podpisz państwa Europy powstałe z rozpadu byłej Jugosławii, zaznaczone na mapie cyframi 1, 3 i 7.

Państwa:

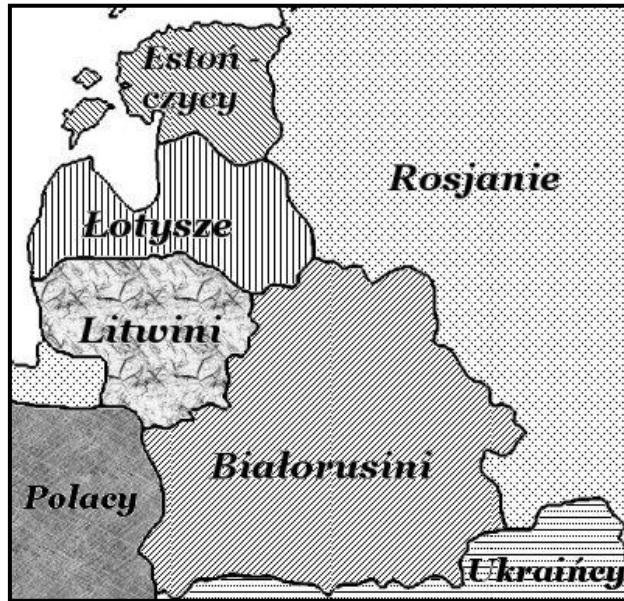
1.
3.
7.

B. Uzupełnij tabelę.

Państwa byłej Jugosławii, które należą do Unii Europejskiej.	Nr na mapie

Zadanie 5 (2p.)

Wykorzystując mapę, zapisz trzy narody, które **nie są** zaliczane do grupy słowiańskiej.



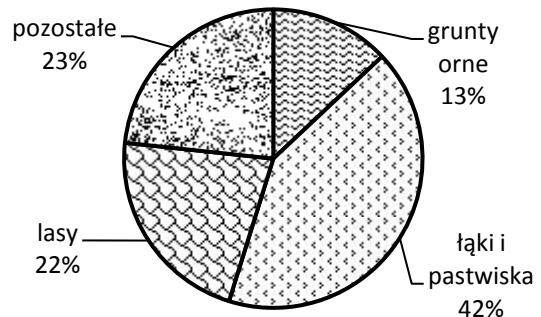
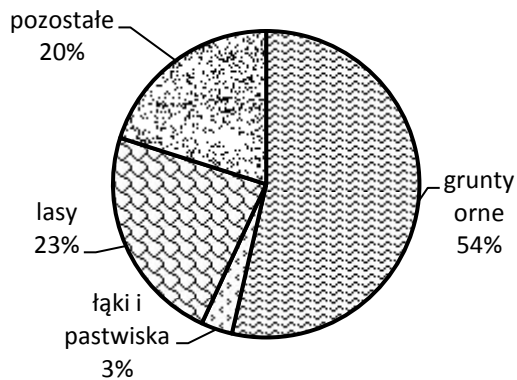
1.
2.
3.

Zadanie 6 (2p.)

Pod diagramami struktury użytkowania ziemi wpisz nazwy państw, wybierając z podanych w ramce.

Chiny, Indie, Japonia

Struktura użytkowania ziemi.



Źródło: opracowanie własne na podst. <https://www.epodreczniki.pl/reader/c/140479/v/latest/t/student-canon-kl3-ucz>

1.
2.

Zadanie 7 (2p.)

Korzystając z materiału źródłowego i własnej wiedzy zapisz trzy cechy, które sprawiają, że w krajach wysoko rozwiniętych kolej może konkurować z transportem lotniczym.

Shinkansen to japońska sieć linii kolejowych z superszybkimi pociągami, osiągającymi maksymalną prędkość 603 km/h. Jest systemem kolei o najwyższym stopniu zautomatyzowania i zapewnienia bezpieczeństwa. To w połączeniu z regularnymi i skrupulatnymi przeglądami technicznymi zaowocowało najwyższym w świecie poziomem bezpieczeństwa. Zakładane możliwe opóźnienie to około... 6 sekund, w ujęciu rocznym nie przekracza 40 sekund. Tylko raz miało miejsce wykolejenie się składu, ale nikt nie zginął. To pokazuje, jak bardzo system kolei Shinkansen jest innowacyjny, skuteczny, niezawodny i zorientowany na bezpieczeństwo. Dodajmy, że pociągi Shinkansen są wzorowo czyste; na początkowej i końcowej stacji zawsze są starannie sprzątane i myte wewnątrz i na zewnątrz. Komfortu dodaje też fakt, że Shinkanseny są świetnie skoordynowane ze zwykłymi pociągami oraz z koleją miejską. Pociągi przypominają swym wyglądem pocisk. Posiadają bardzo wygodne i nowoczesne wnętrza z siedzeniami jak w samolocie, ustawionymi tylko przodem do kierunku jazdy. Podróż Shinkansenem na najpopularniejszej trasie z Tokio do Kioto (odległość 500 kilometrów) zajmie jedynie 2 godziny 15 minut.

Źródło: Artur Z., „Shinkansen „najbezpieczniejsza kolej świata”, <http://3obieg.pl/shinkansen-najbezpieczniejsza-kolej-swiata>



Źródło : <http://joemonster.org/mg/strona,15861>



Źródło: <http://3obieg.pl/shinkansen-najbezpieczniejsza-kolej-swiata>

Cechy :

1.
2.
3.

Zadanie 8 (2p.)

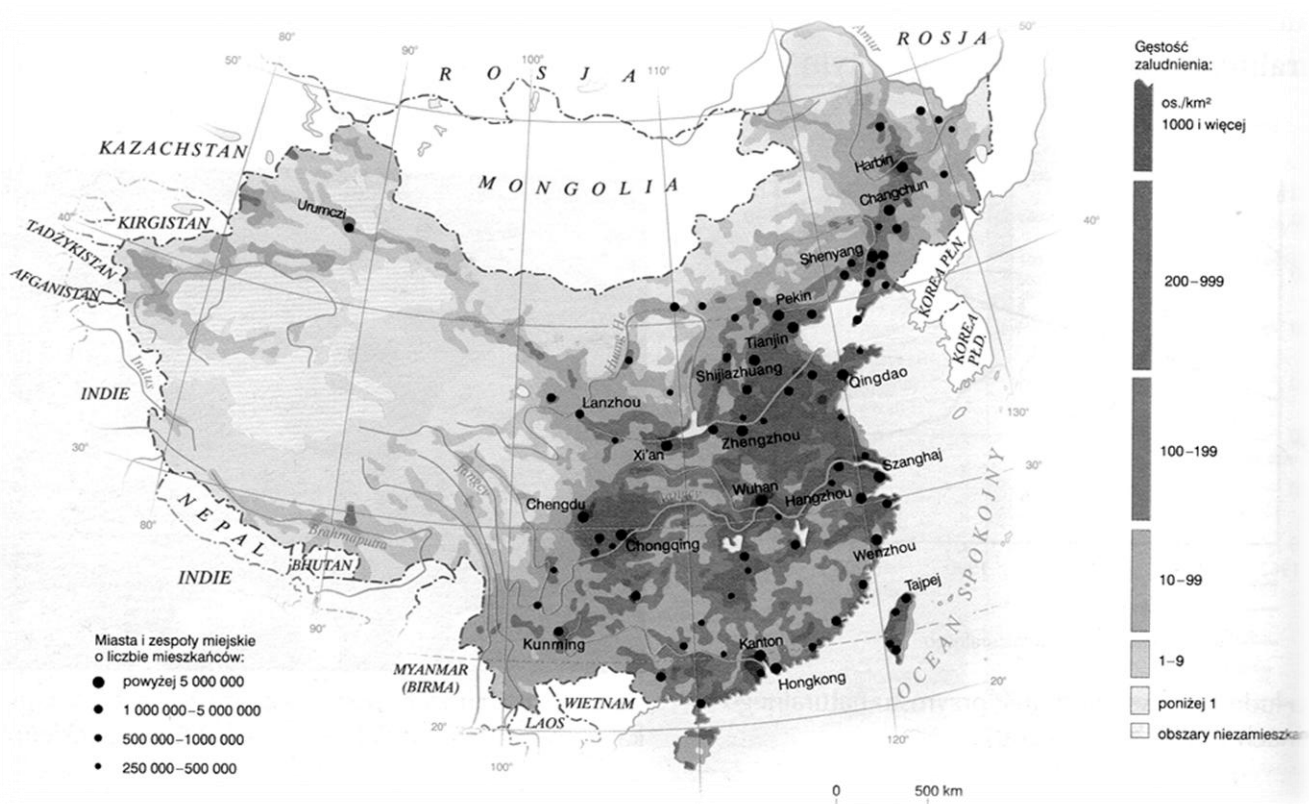
Oceń prawdziwość każdego zdania. Przy zdaniu prawdziwym zakreśl literę P, a przy zdaniu fałszywym literę F.

<i>W Japonii dzięki bogatej bazie surowców mineralnych bardzo dobrze rozwinięty jest przemysł hutniczy.</i>	P	F
<i>Największym okręgiem przemysłowym w RPA jest Okręg Witwatersrand.</i>	P	F
<i>W gospodarce Norwegii bardzo ważne są bogate złoża rud żelaza eksploatowane w okolicy Kiruny i Galliväre.</i>	P	F

Zadanie 9 (2p.)

Korzystając z mapy rozmieszczenia ludności w Chinach i własnej wiedzy, zapisz trzy cechy środowiska przyrodniczego, które wpływają na małą gęstość zaludnienia w części zachodniej tego kraju.

Rozmieszczenie ludności w Chinach.



Źródło; Dobosik B, Hibszer A, Soja J, „Puls Ziemi 2 – podręcznik do geografii dla klasy drugiej gimnazjum”, Wyd. Era Sp. z. o.o. 2010

Cechy środowiska przyrodniczego:

1.
2.
3.

Zadanie 10 (2p.)

Oceń prawdziwość każdego zdania. Przy zdaniu prawdziwym zakreśl literę P, a przy zdaniu fałszywym literę F.

<i>Strefa Sahelu obejmuje obszar wzdłuż południowych i północnych obrzeży Sahary.</i>	P	F
<i>Strefa Sahelu to jeden z najbiedniejszych regionów świata.</i>	P	F
<i>W strefie Sahelu sorgo i proso mają dogodne warunki do wegetacji.</i>	P	F

Zadanie 11 (2p.)

Korzystając z fotografii i własnej wiedzy wykonaj zadania.



Źródło: <https://sadcjanin.info/blogosfera/zielone-porady-dariusza-rychla/agro-pot%C4%99ga>

A. Zapisz nazwę zabiegu agrotechnicznego stosowanego na stromych stokach użytkowanych rolniczo między innymi w Azji Południowej i Azji Południowo – Wschodniej.

.....

B. Wyjaśnij, w jakim celu stosuje się tego rodzaju zabiegi.

.....

.....

Zadanie 12 (2p.)

Zapisz trzy problemy społeczne, ekonomiczne lub ekologiczne, z jakimi borykają się mieszkańcy brazylijskich faweli.

1.

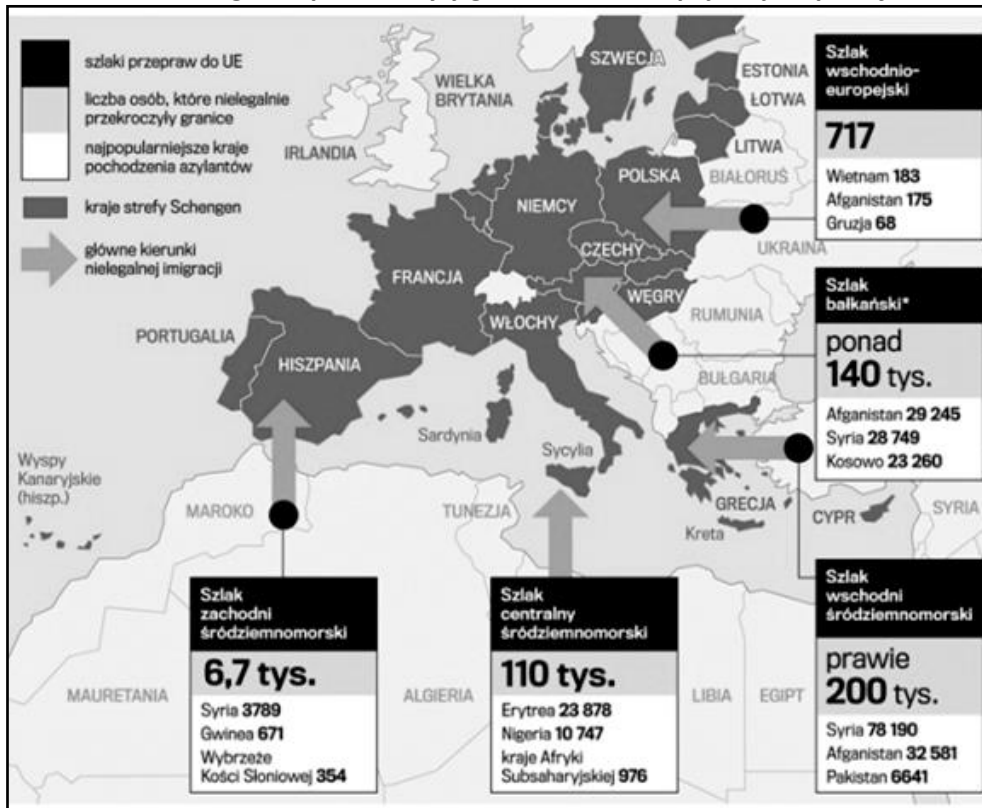
2.

3.

Zadanie 13 (3p.)

Temat uchodźców jest jedną z ważniejszych informacji w mediach. Korzystając z mapy i własnej wiedzy wykonaj zadania.

Liczba osób, które nielegalnie przekroczyły granice Unii Europejskiej od początku 2015 roku.



Źródło: <https://www.tygodnikpowszechny.pl/wiecej-wiedzy-mniej-strachu-informator-o-uchodzcach-w-polsce-30172>

A. Zapisz nazwy trzech państw, z których najwięcej osób nielegalnie przekroczyło granice Unii Europejskiej.

1. 2. 3.

B. Zapisz trzy przyczyny, które powodują, że ludność z tych państw ucieka do krajów Unii Europejskiej.


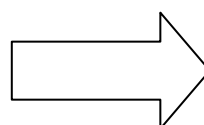
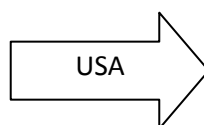
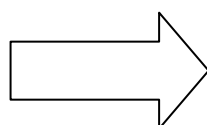
1.
 2.
 3.

Zadanie 14 (2p.)

Uzereguj podane państwa według malejącej liczby ludności.

Państwa: Niemcy, Chiny, Indie, Indonezja, USA

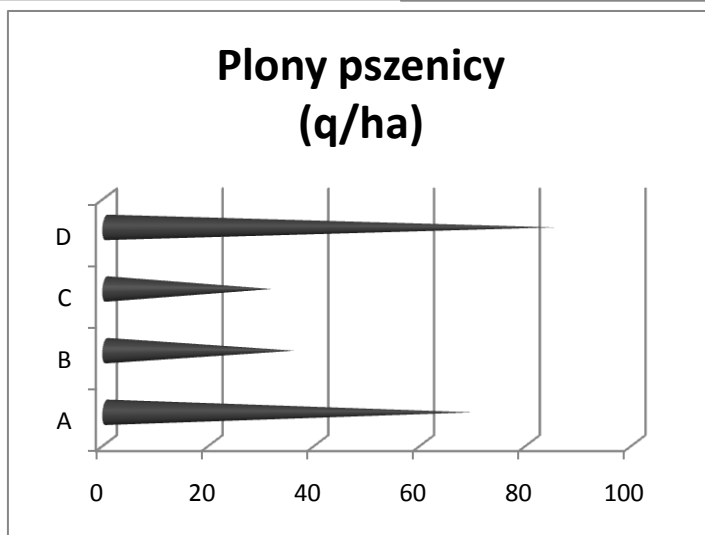
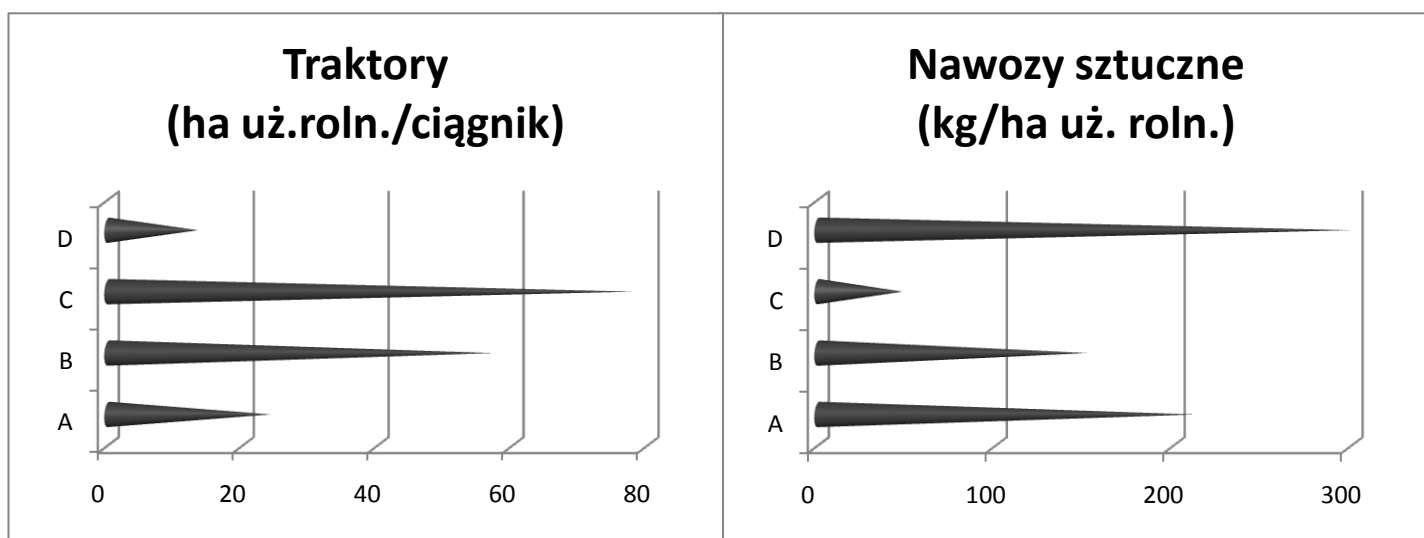
Państwo o największej liczbie ludności



Państwo o najmniejszej liczbie ludności

Zadanie 15 (3p.)

Korzystając z wykresów i własnej wiedzy wykonaj zadania.



Źródło: opracowanie własne na podstawie *Małe tablice geograficzne*, Wyd. Adamantan, Warszawa 2016

A. Zapisz litery, którymi oznaczono państwa prowadzące gospodarkę intensywną.

Państwa: i

B. Zapisz trzy cechy gospodarki intensywnej.

1.

2.

3.

Zadanie 16 (1p.)

Po opisie rozpoznaj kontynent. Zapisz jego nazwę.

Najwyższym szczytem kontynentu jest Kibo (5895 m n.p.m), zaś najniższy punkt stanowi depresja jeziora Assal (153 m p.p.m). Znajduje się on w obrębie trzech stref klimatycznych: równikowej, zwrotnikowej i podzwrotnikowej. Do najważniejszych surowców mineralnych należą diamenty, fosforyty, miedź, uran i złoto. Kontynent jest jednym z głównych producentów kakao, manioku, bananów, kawy i herbaty.


Źródło: Surowiec M., [w:] *Czy (...) jest krajem?*, Fundacja „Al”, Warszawa 2011

Nazwa kontynentu:.....

Zadanie 17 (2p.)

Wpisz nazwę miasta i państwa na terenie, którego znajdują się obiekty przedstawione na fotografiach.

A.



Źródło: <https://www.theclimategroup.org> [dostęp: 10.12.2016]

Nazwa miasta:

.....

Nazwa państwa:

.....

B.



Źródło: <http://www.photoblog.pl> [dostęp: 10.12.2016]

Nazwa miasta:

.....

Nazwa państwa:

.....

Zadanie 18 (2p.)

Oceń prawdziwość każdej informacji. Wpisz znak X w odpowiednie komórki tabeli.

L.p.	Informacja	P	F
1.	<i>Zakłady i okręgi przemysłowe Australii skoncentrowane są na zachodnim wybrzeżu państwa.</i>		
2.	<i>W Australii najlepiej rozwinęła się żegluga śródlądowa.</i>		
3.	<i>Większość gruntów ornych Australii przeznaczana jest pod uprawę pszenicy.</i>		

Zadanie 19 (1p.)

Wyjaśnij, jaki wpływ na rozwój gospodarczy państw Europy Zachodniej ma religia protestancka.
Wyjaśnienie:

.....

.....

.....

.....

Zadanie 20 (1p.)

Podkreśl gałęzie / branże, które należą do przemysłu wysokiej technologii.

*przemysł wydobywczy/przemysł farmaceutyczny/przemysł tworzyw sztucznych/przemysł hutniczy/
przemysł drzewny/przemysł optyczny*

Zadanie 21 (2p.)

Zapisz dwie przyczyny zmian w środowisku przyrodniczym obszarów okołobiegunowych.

1.
2.

Zadanie 22 (2p.)

Zapisz dwa przykłady kontrastów społeczno – gospodarczych w Indiach.

1.
2.

Zadanie 23 (2p.)

Zapisz trzy przyrodnicze lub społeczno – ekonomiczne skutki wylesiania Amazonii.

1.
2.
3.

Zadanie 24 (3p.)

Korzystając z mapy oraz własnej wiedzy wykonaj zadania.

ZUŻYCIE ENERGII ELEKTRYCZNEJ NA 1 MIESZKAŃCA W 2011 R.



Źródło: "Energy Statistics Yearbook 2011".

A. Zapisz nazwy dwóch państw leżących na innych kontynentach, w których zanotowano najwyższe zużycie energii elektrycznej na 1 mieszkańca.

1.

2.

B. Wyjaśnij, podając dwa argumenty, dlaczego na świecie występują duże różnice w poziomie zużycia energii elektrycznej na 1 mieszkańca.

Wyjaśnienie:

.....

.....

.....

.....

Zadanie 25 (2p.)

Podkreśl dwa zdania zawierające prawdziwe informacje.

A. W USA w usługach pracuje 15% zatrudnionych.

B. W USA około 70% kapitału i produkcji koncentruje się w wielkich koncernach.

C. Współczynnik urbanizacji w Stanach Zjednoczonych wynosi 45%.

D. USA jest państwem wysoko uprzemysłowionym, wytwarzającym 1/5 światowej produkcji.

Zadania z literatury.

Zadanie 26 (1p.)

Zaznacz poprawne dokończenie zdania.

Czufut Kale to

- A. miasto – twierdza Karaimów.
- B. meczet Tatarów krymskich.
- C. kurhany Scytów.
- D. ruiny greckiej kolonii.

Zadanie 27 (1p.)

Zaznacz poprawną odpowiedź.

El Morro w Hawanie to

- A. promenada.
- B. starówka.
- C. forteca.
- D. rezydencja kolonialna.

Zadanie 28 (2p.)

Oceń prawdziwość każdego zdania. Przy zdaniu prawdziwym zakreśl literę P, a przy zdaniu fałszywym literę F.

<i>Koltan służący np. do produkcji komputerów i telefonów komórkowych występuje na pograniczu Demokratycznej Republiki Konga, Republiki Środkowoafrykańskiej i Rwandy.</i>	P	F
<i>Uprawa i eksport kwiatów przez Kenię czy Etiopię jest korzystne dla mieszkańców tych państw.</i>	P	F
<i>Konflikt o zasoby wody rzeki Eufratu toczy się między Turcją, Syrią i Irakiem.</i>	P	F

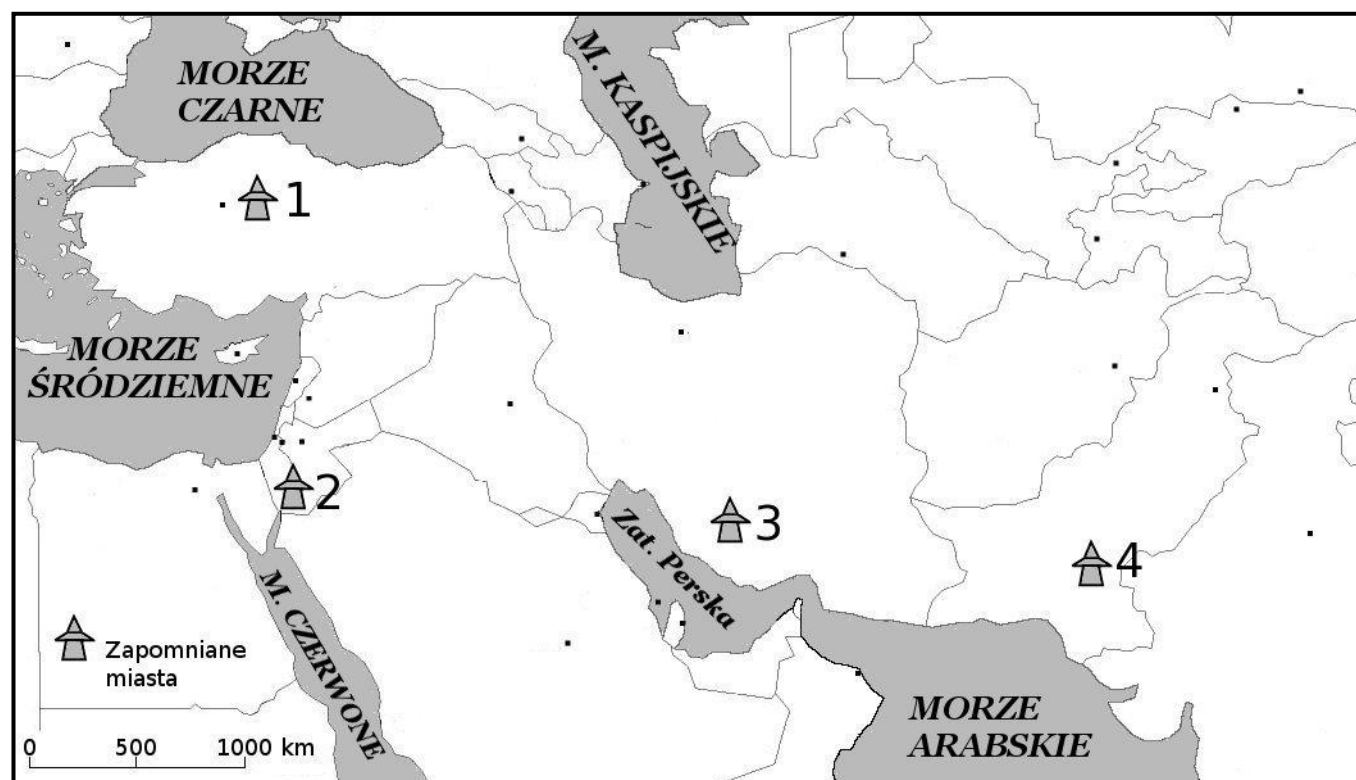
Zadanie 29 (1p.)

Podkreśl nazwę kubańskiego miasta, dawnego centrum handlu cukrem i niewolnikami, znanego z brukowanych ulic i kolonialnej architektury i wpisanego w 1998 r. na Listę Światowego Dziedzictwa Kulturowego UNESCO.

Santa Klara, Hawana, Santiago de Cuba, Trynidad

Zadanie 30 (2p.)

Korzystając z mapy i opisów miast uzupełnij tabelę według wzoru.



Źródło: opracowanie własne na podstawie NATIONAL GEOGRAPHIC NR 5 (200) MAJ 2016 J. Lamparska – Skarby dla zuchwałych- Zapomniane miasta. s. 48-49

Opisy miast:

- A. Stolica imperium Hetytów z XVI w. p.n.e., upadła w XI w. p.n.e. Miasto mogło mieć 50 tys. mieszkańców. Archeolodzy pracują tam od początku XX w.
- B. Imponująca bogactwem stolica imperium Persów z VI w. p.n.e., spalona przez Aleksandra Wielkiego. Archeolodzy odkryli ją w latach 30. XX w.
- C. Metropolia z III tysiąclecia p.n.e., jedno z najstarszych miast świata, miało nawet 35 tys. mieszkańców. Upadło w XVI w. p.n.e., odkryte w początkach XX w.
- D. Stolica Nabatejczyków ukryta w wąwozie.

Nazwa miasta	Nr na mapie	Państwo	Opis miasta
<i>Mohendžo-daro</i>	4	<i>Pakistan</i>	<i>C</i>
<i>Petra</i>			
<i>Persepolis</i>			

Zadanie 31 (2p.)

Na podstawie opisu rozpoznaj miasta Chorwacji. Nazwy miast wybierz z ramki.

Poreč, Lublana, Rovinij, Pula

Miasto	Opis
	<i>Wpisane na listę UNESCO – przykład architektury bizantyjskiej bazylika Eufrazjana z mozaikami z IV w., Kula Pietra de Mula- okrągła wieża obronna na Narodnim trgu.</i>
	<i>Znajduje się tu amfiteatr rzymski cesarza Wespazjana datowany na I w. n.e. Dzisiaj obok rzymskiego Koloseum i areny we francuskim Nimes, jest to najlepiej zachowana budowla tego typu.</i>
	<i>Nazywane chorwackim Saint Tropez, katedra św. Eufemii z pięćdziesięciosiedmiometrową wieżą, port wywozowy boksytów, najstarsza w kraju przetwórnia ryb</i>

Zadanie 32 (2p.)

Zapisz trzy negatywne skutki Brexitu dla imigrantów zamieszkujących Wielką Brytanią.

1.
.....
2.
.....
3.
.....

