

WOJEWÓDZKI KONKURS PRZEDMIOTOWY  
Z HISTORII  
DLA UCZNIÓW GIMNAZJÓW  
2017/2018

**TEST**  
**ELIMINACJE SZKOLNE**

Numer identyfikacyjny

--

*Wypełnia Szkolna Komisja Konkursowa*

Imiona i nazwisko

.....

*Wypełnia Szkolna Komisja Konkursowa*

	Razem	
Punkty do uzyskania	85	w %
Punkty uzyskane		

Czas trwania testu: **60 minut** bez przerwy

.....

**INSTRUKCJA DLA UCZESTNIKÓW:**

*Masz przed sobą test, który zawiera zadania otwarte i zamknięte. Pamiętaj! W pytaniach zamkniętych należy podkreślić prawidłową odpowiedź.*

*W sytuacji, gdy uznasz, że źle zaznaczyłaś/es odpowiedź skreśl ją i podkreśl prawidłową.*

*Może być tylko jedna poprawka w ramach jednego zadania! Czytaj uważnie każde polecenie.*

**POWODZENIA!**

**Zadanie 1 (0-1 p.)**

**Podkreśl właściwą grupę wyrazów związanych tylko z Egiptem.**

- A) Świątynia, kapłan, Biblia, Re
- B) Piramida, papirus, faraon, Amon
- C) Faraon, mumia, Jahwe, Salomon
- D) Amon, Re, piramida, Biblia

**Zadanie 2 (0-5 p.)**

**Dopisz postać do podanych informacji:**

- A) Mówca i polityk ateński, twórca demokracji.

.....

- B) Zorganizował powstanie niewolników w Rzymie.

.....

- C) Autor rzeźby Dyskobol.

.....

- D) Król Spartan, dowódca wojsk w bitwie w Wąwozie Termopilskim.

.....

- E) Filozof grecki, wychowawca Aleksandra Macedońskiego, twórca Liceum.

.....

Śladami przeszłości. Podr. do historii dla gimnazjum, t. I Nowa Era, Warszawa 2016 s. 82, 87, 119

**Zadanie 3 (0-3 p.)**

**Podpisz porządki architektoniczne starożytnej Grecji.**



.....

.....

.....

Śladami przeszłości. Podr. do historii dla gimnazjum, t. I Nowa Era, Warszawa 2016 s. 86

**Zadanie 4 (0-5 p.)**

Do każdego określenia dopisz nazwę państwa, z którym jest związane.

- A) Tora – .....
- B) Agora – .....
- C) Zikkurat – .....
- D) Kapitol – .....
- E) Dolina Królów – .....

Śladami przeszłości. Podr. do historii dla gimnazjum, t. I Nowa Era, Warszawa 2016 s. 47,102,35

**Zadanie 5 (0-4 p.)**

Podpisz, jaka cywilizacja starożytna posługiwała się danym rodzajem pisma.

The image shows four examples of ancient writing systems, each with a corresponding empty box for labeling:

- Top left: A clay tablet with cuneiform script.
- Top right: A scroll with hieroglyphs.
- Bottom left: A stone inscription with Greek letters.
- Bottom right: A stone inscription with Latin letters.

**Zadanie 6 (0-4 p.)**

Wpisz we właściwe miejsca kompetencje urzędników rzymskich.

<b>PRETOR</b>	
<b>CENZOR</b>	
<b>EDYL</b>	
<b>KONSUL</b>	

Śladami przeszłości. Podr. do historii dla gimnazjum, t. I Nowa Era, Warszawa 2016 s. 109

- A) Głównodowodzący armią rzymską
- B) Spisywał listy obywateli i senatorów
- C) Sprawował najwyższą władzę sądowniczą
- D) Nadzorował porządek w mieście

**Zadanie 7 (0-4 p.)**

**Dopisz daty do wydarzeń wczesnośredniowiecznych.**

A) Wielka hidźra - .....

B) Chrzest Chlodwiga - .....

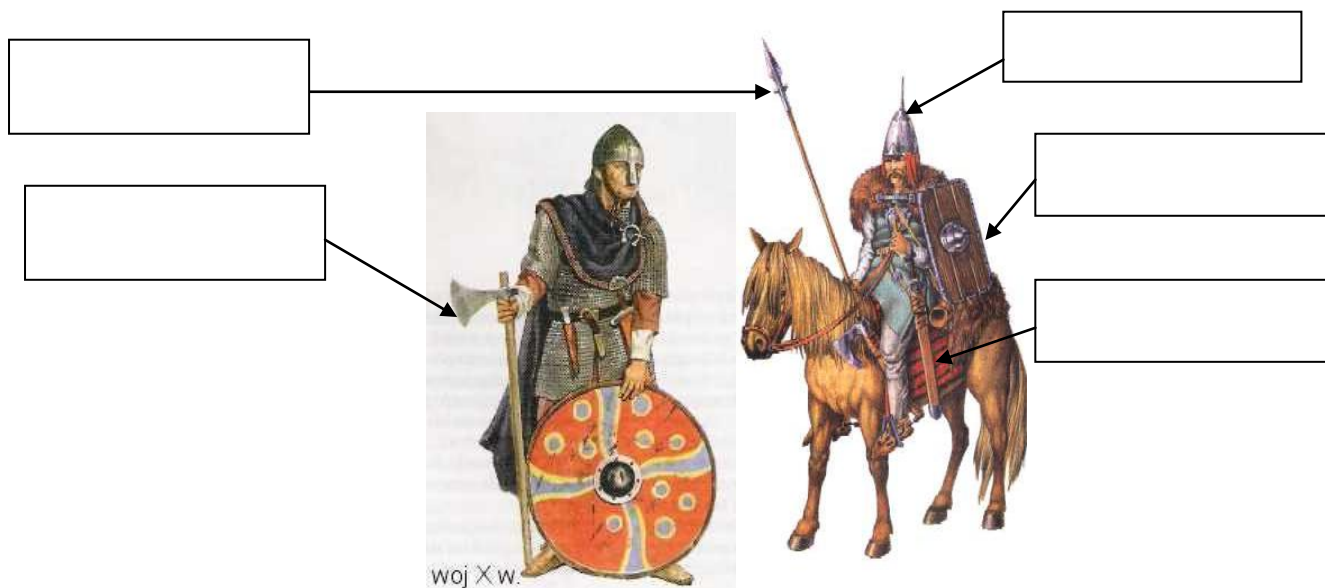
C) Bitwa pod Poitiers Karola Młota z wojskami muzułmańskimi - .....

D) Traktat w Verdun - .....

Śladami przeszłości. Podr. do historii dla gimnazjum, t. I Nowa Era, Warszawa 2016 s. 158,163,164,168

**Zadanie 8 (0-5p.)**

**Podpisz wskazane elementy uzbrojenia woja.**



Śladami przeszłości. Podr. do historii dla gimnazjum, t. I Nowa Era, Warszawa 2016 s. 197

**Zadanie 9 (0-3 p.)**

Wpisz we właściwe miejsca po dwa *symbole* każdej z wielkich religii monoteistycznych. Możesz wykorzystać poniższe ilustracje.

JUDAIZM	CHRZEŚCIJAŃSTWO	ISLAM



Śladami przeszłości. Podr. do historii dla gimnazjum, t. I Nowa Era, Warszawa 2016, s. 41,140, 160

**Zadanie 10 (0-4 p.)**

Wykonaj polecenia związane z rozbiorem dzielnicowym.

A) Wymień imiona synów Bolesława Krzywoustego umieszczonych w statucie z 1138 r.

.....

B) Wymień imię syna, którego imię nie zostało wymienione w statucie z 1138 r.

.....

C) Napisz, który z synów Bolesława Krzywoustego, jako pierwszy otrzymał dzielnicę senioralną.

.....

D) Który z władców piastowskich był koronowany w XIII w.

.....

Śladami przeszłości. Podr. do historii dla gimnazjum, cz. II, Nowa Era, Warszawa 2016 s. 16,17, 32

**Zadanie 11 (0-5 p.)**

Uzupełnij tabelę *Czasy Kazimierza Wielkiego*

Kto był ojcem Kazimierza Wielkiego?	
W którym roku Kazimierz Wielki podpisał traktat pokojowy w Kaliszu?	
Z którymi państwami Kazimierz Wielki podpisał sojusz? Wymień jedno z nich.	
Jaką ziemię przyłączył do Polski Kazimierz Wielki w latach 1340 – 1349?	
Jakie dwa wydarzenia związane są z datą 1364?	

Śladami przeszłości. Podr. do historii dla gimnazjum, t. II Nowa Era, Warszawa 2016 s. 37-39

**Zadanie 12 (0-1 p.)**

Podkreśl prawidłową odpowiedź.

Kobietą, która po raz pierwszy objęła tron królewski w Polsce była:

- A) Dobrawa
- B) Ryczeza
- C) Jadwiga Andegaweńska
- D) Anna Jagiellonka

**Zadanie 13 (0-7 p.)**

Wykonaj polecenia związane z mapą *Państwo polsko-litewskie w XIV i XV w.*

I. zaznacz:

literą **A** Prusy Książęce;      literą **B** Prusy Królewskie;  
literą **C** stolicę Państwa Krzyżackiego po II pokoju toruńskim.

II. Odpowiedz na pytania związane z mapą.

Z jakimi wydarzeniami z okresu panowania pierwszych Jagiellonów są związane następujące miejscowości:

- A) Czerwińsk - .....
- B) Krewo - .....
- C) Grunwald - .....
- D) Horodło - .....





### Zadanie 14 (0-4 p.)

Połącz prawidłowo odpowiednią literą alfabetu: datę z postacią historyczną i wydarzeniem

- |         |                          |   |
|---------|--------------------------|---|
| A) 1488 | _____ Krzysztof Kolumb   | _____ droga morska do Indii             |
| B) 1492 | _____ Vasco da Gama      | _____ odkrycie Ameryki                  |
| C) 1498 | _____ Ferdynand Magellan | _____ odkrycie Przylądka Dobrej Nadziei |
| D) 1519 | _____ Bartolomeo Diaz    | _____ opłynięcie kuli ziemskiej         |

**Zadanie 15 (0-3 p.)**

**Wytłumacz pojęcia związane z odkryciami geograficznymi:**

**A) konkwistador - .....**

.....

**B) astrolabium - .....**

.....

**C) karawela - .....**

.....

**Zadanie 16 (0-4 p.)**

**Do podanych zdań dopisz PRAWDA lub FAŁSZ.**

**A) Władysław Warneńczyk był synem Władysława Jagielly i bratem Kazimierza Jagiellończyka.**

.....

**B) Aleksander Jagiellończyk był synem Kazimierza Jagiellończyka i bratem Zygmunta Augusta.**

.....

**C) Jan Olbracht był synem Kazimierza Jagiellończyka i bratem Zygmunta Augusta.**

.....

**D) Zygmunt August był ojcem Zygmunta Starego i bratem Aleksandra.**

.....


Śladami przeszłości. Podr. do historii dla gimnazjum, t. II Nowa Era, Warszawa 2016 s. 16



**Zadanie 17 (0-4 p.)**

**Nazwij postaci zaznaczone na obrazie Jana Matejki *Hold pruski***

Śladami przeszłości. Podr. do historii dla gimnazjum, t. II Nowa Era, Warszawa 2016 s. 186



A - .....

B - .....

C - .....

D - .....

**Zadanie 18 (0-4 p.)**

**Kto jest twórcą:**

- fresków w Kaplicy Sykstyńskiej - .....

.....

- człowieka witruwiańskiego - .....

.....

- 95 też przybitych do drzwi kościoła w Wittenberdze - .....

.....

- dzieła naukowego „O obrotach sfer niebieskich...” -

.....

.....

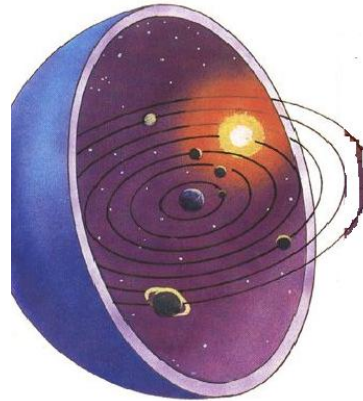

Śladami przeszłości. Podr. do historii dla gimnazjum, t. II Nowa Era, Warszawa 2016 s. 155

**Zadanie 19 (0-2 p.)**

**Nadaj właściwy tytuł ilustracjom:**

**UKŁAD GEOCENTRYCZNY;**

**UKŁAD HELIOCENTRYCZNY**



.....  
Śladami przeszłości. Podr. do historii dla gimnazjum, t. II Nowa Era, Warszawa 2016 s. 195

**Zadanie 20 (0-1 p.)**

**Podkreśl prawidłową odpowiedź.**

**Towarzystwo Jezusowe założone w 1540 r. przez Ignacego Loyolę to zakon:**

- A) benedyktynów    B) bernardynów    C) dominikanów    D) jezuitów**

.....  
Śladami przeszłości. Podr. do historii dla gimnazjum, t. II Nowa Era, Warszawa 2016 s. 166

**Zadanie 21 (0-1 p.)**

**W celu podjęcia walki z reformacją Kościół katolicki zwołał sobór powszechny, który obradował w latach 1545-1563 w:**

- A) Konstancji    b) Augsburgu    C) Trydencie    D) Rzymie**

.....  
Śladami przeszłości. Podr. do historii dla gimnazjum, t. II Nowa Era, Warszawa 2016 s. 163

**Zadanie 22 (0-3 p.)**

**Dopisz do zdań PRAWDA lub FAŁSZ.**

**A) Po wojnie 13-letniej wzrosło znaczenie Wisły jako szlaku handlowego, którym spławiano towary do najważniejszego portu polskiego – Gdańska.**

.....

**B) Lud wodny, który przewoził towary Wisłą nazywany był flisakami.**

.....

**C) Głównymi towarami eksportowanymi z Polski do krajów Europy Zachodniej była oliwa, wino i drewno.**

.....

.....  
Śladami przeszłości. Podr. do historii dla gimnazjum, t. II Nowa Era, Warszawa 2016 s. 161

**Zadanie 23 (0- 3 p.)**

**Dopisz pojęcia do podanych definicji.**

*Związek dwóch lub więcej państw połączonych osobą władcy.* .....

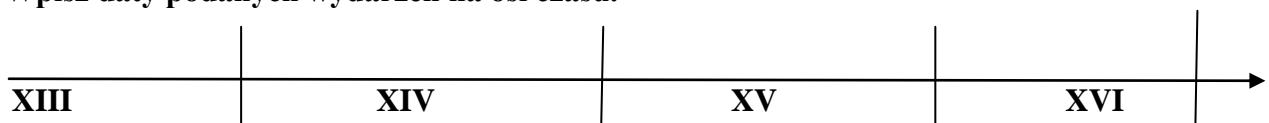
*Zjazd szlachty danej ziemi.* .....

*Każda ustawa sejmowa w XVI w.* .....

Śladami przeszłości. Podr. do historii dla gimnazjum, t. II Nowa Era, Warszawa 2016 s. 175

**Zadanie 24 (0-3 p.)**

**Wpisz daty podanych wydarzeń na osi czasu.**



**A) zwołanie pierwszego sejmku walnego w Piotrkowie przez Jana Olbrachta**

**B) uchwalenie konstytucji *Nihil Novi***

**C) wydanie przywileju koszyckiego**

Śladami przeszłości. Podr. do historii dla gimnazjum, t. II Nowa Era, Warszawa 2016 s. 172-176

**Zadanie 25 (0 - 2 p.)**

**Cyframi rzymskimi i arabskimi zapisz datę śmierci ostatniego Jagiellona na tronie polskim.**

**A) cyfry rzymskie**.....

**B) cyfry arabskie**.....