

WOJEWÓDZKI KONKURS PRZEDMIOTOWY
Z HISTORII
DLA UCZNIÓW GIMNAZJÓW
2017/2018

TEST
ELIMINACJE REJONOWE

Numer identyfikacyjny

| |
|--|
| |
|--|

Wypełnia Rejonowa Komisja Konkursowa

| |
|----------------------------|
| Imiona i nazwisko |
|----------------------------|

Wypełnia Rejonowa Komisja Konkursowa

| Punkty do uzyskania | Razem | |
|---------------------|-------|-----|
| | | w % |
| Punkty uzyskane | 80 | |

Czas trwania testu: **90 minut** bez przerwy

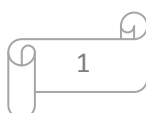
.....

INSTRUKCJA DLA UCZESTNIKÓW:

Masz przed sobą test, który zawiera zadania otwarte i zamknięte. Pamiętaj! W pytaniach zamkniętych należy podkreślić prawidłową odpowiedź.

W sytuacji, gdy uznasz, że źle zaznaczyłaś/es odpowiedź skreśl ją i podkreśl prawidłową. Może być tylko jedna poprawka w jednym zadaniu! Czytaj uważnie każde polecenie.

POWODZENIA!



Zadanie 1 0-4p.

Uzupełnij tabelę *Wojny Rzeczypospolitej w XVII w.*

| BITWA | ROK BITWY | PAŃSTWO, Z KTÓRYM POLSKA WALCZYŁA |
|-----------------|-----------|-----------------------------------|
| <i>Kircholm</i> | | |
| <i>Cecora</i> | | |
| <i>Kłuszyn</i> | | |
| <i>Oliwa</i> | | |

S. Roszak, Śladami Przeszłości . Podręcznik do historii dla gimnazjum kl II, s.227-239

Zadanie 2 0-4p.

Odpowiedz na pytania.

A. Który z władców elekcyjnych podpisał rozejm w Jamie Zapolskim?

.....

S. Roszak, Śladami Przeszłości . Podręcznik do historii dla gimnazjum kl II, s.211

B. Który z władców elekcyjnych złożył śluby lwowskie?

.....

S. Roszak, Śladami Przeszłości . Podręcznik do historii dla gimnazjum kl. II, s.244

C. Który z władców elekcyjnych podpisał traktat w Buczaczu?

.....

S. Roszak, Śladami Przeszłości . Podręcznik do historii dla gimnazjum kl. II, s.247

D. Który z hetmanów został królem po zwycięstwie chocimskim?

.....

S. Roszak, Śladami Przeszłości . Podręcznik do historii dla gimnazjum kl. II, s.248

Zadanie 3 0-1p.

Spośród twórców epoki baroku podkreśl nazwiska kompozytorów.

Molier,

Jean Baptiste Racine,

Georg Friedrich Haendel,

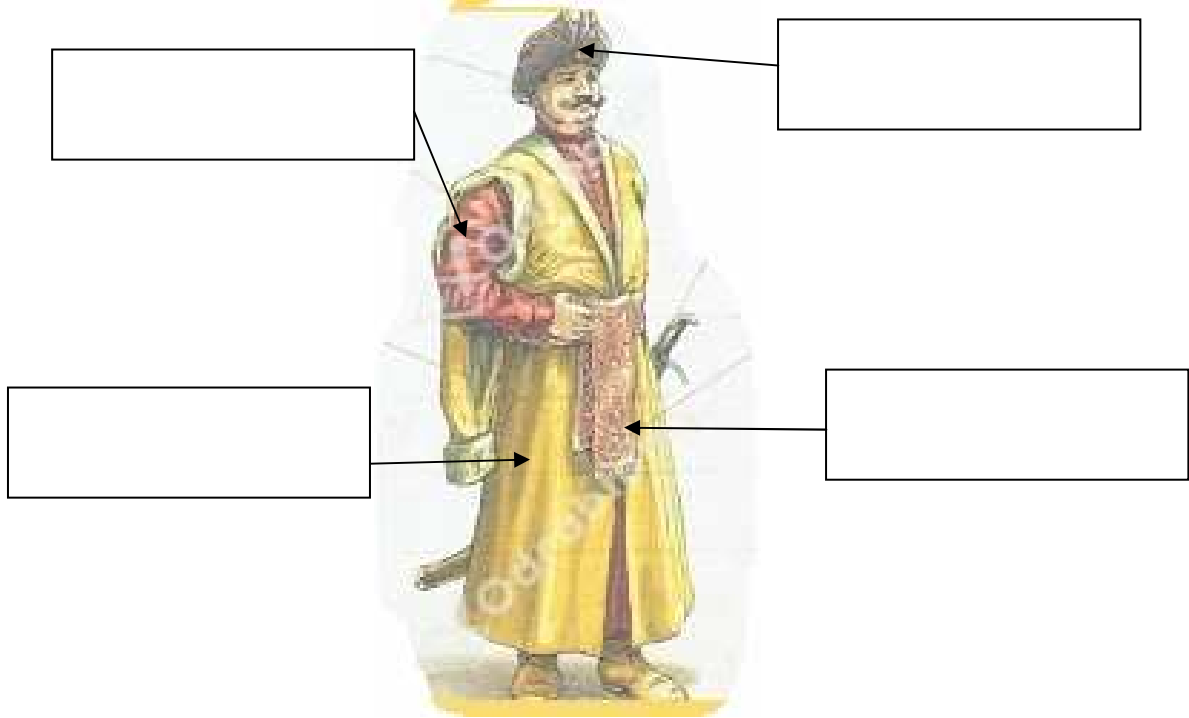
Johan Sebastian Bach,

Giovanni Bernini

S. Roszak, Śladami Przeszłości . Podręcznik do historii dla gimnazjum kl. II, s.254

Zadanie 4 0-4p.

Podpisz wskazane elementy męskiego stroju szlacheckiego.



www.odrabiamy.pl

S. Roszak, Śladami Przeszłości . Podręcznik do historii dla gimnazjum kl. II, s.259

Zadanie 5. 0-2p.

Spośród podanych wydarzeń związanych z rewolucją angielską literą A zaznacz wydarzenie chronologicznie najwcześniejsze, a literą B chronologicznie najpóźniejsze.

- restauracja Stuartów
.....

- akty nawigacyjne
.....

- egzekucja Karola I
.....

- Cromwell zostaje Lordem Protektorem
.....

- wybuch konfliktu zbrojnego pomiędzy wojskami króla a parlamentem
.....

S. Roszak, Śladami Przeszłości . Podręcznik do historii dla gimnazjum kl. II, s.217-218

Zadanie 6 0-1p.

Spośród podanych budowli podkreśl te, które zbudowano w stylu barokowym.

Pałac w Wersalu Pałac w Wilanowie Ratusz w Poznaniu
Zwinger w Dreźnie

S. Roszak, Śladami Przeszłości. Podręcznik do historii dla gimnazjum kl. III, s.23

Zadanie 7 0-3p.

Wymień trzy państwa ościenne Rzeczypospolitej i ich władców z czasów stanisławowskich.

| państwo | władca |
|---------|--------|
| A. | |
| B. | |
| C. | |

S. Roszak, Śladami Przeszłości . Podręcznik do historii dla gimnazjum kl. III, s.16-21

Zadanie 8 0-7p.

Uzupełnij poniższy tekst:

W roku w Bostonie miało miejsce wydarzenie, które przeszło do historii jako "bostońskie picie herbaty". To wydarzenie zapoczątkowało konflikt zbrojny pomiędzy.....

a

Dowództwo zjednoczonych sił kolonii powierzono

Deklaracja Niepodległości została ogłoszona (dzień-miesiąc-rok)..... i jest to święto narodowe USA. Pierwszą konstytucję uchwalono w roku

Nad rzeką Potomac powstała nowo wybudowana stolica, która na cześć pierwszego prezydenta nosiła nazwę

S. Roszak, Śladami Przeszłości . Podręcznik do historii dla gimnazjum kl. III, s.48-53

Zadanie 9 0-4p.

Na podstawie podanego fragmentu dokumentu wykonaj polecenia.

„Zgromadzenie Narodowe uznaje i ogłasza [...] następujące prawa człowieka i obywatela.

1. Ludzie rodzą się i pozostają wolni i równi z punktu widzenia prawa. Różnice społeczne mogą się opierać tylko na użyteczności wobec społeczeństwa....”

A. Podaj nazwę dokumentu.

.....

B. Podaj pełną datę ogłoszenia dokumentu.

.....

C. W jakim kraju ogłoszono ten dokument?

.....

D. Kto był autorem tego dokument?

.....

S. Roszak, Śladami Przeszłości . Podręcznik do historii dla gimnazjum kl. III, s.60

Zadanie 10 0-3p.

Na podstawie ilustracji odpowiedz na pytania.



www.wikipedia.pl

A) Wymień władcę, który ustanowił Order przedstawiony na ilustracji?

.....

B) Podczas jakiej wojny ustanowiono Order przedstawiony na ilustracji?

.....

C) Kto otrzymał Order za bohaterstwo w bitwie pod Zieleńcami?

.....

S. Roszak, Śladami Przeszłości . Podręcznik do historii dla gimnazjum kl. III, s.70

Zadanie 11 0-1p.

Spośród podanych niżej nazwisk podkreśl sygnatariuszy konfederacji targowickiej.

Jerzy Adam Czartoryski,
Branicki,

Stanisław Szczęsny Potocki,

Franciszek Ksawery

Seweryn Rzewuski,

Hugo Kołłątaj,

Stanisław Małachowski

S. Roszak, Śladami Przeszłości . Podręcznik do historii dla gimnazjum kl. III, s.70

Zadanie 12 0-3p.

Podkreśl te rozwiązania prawne, które nie znalazły się w Ustawie Rządowej z 3 maja 1791r.:

- władza wykonawcza należy do Straży Praw,
- mieszczenie zostali zrównani w prawach ze szlachtą,
- chłopci zostali uwłaszczeni,
- zostało zniesione liberum veto,
- tron stał się dziedziczny,
- powołano Szkołę Rycerską.

S. Roszak, Śladami Przeszłości . Podręcznik do historii dla gimnazjum kl. III, s.68-69

Zadanie 13 0-3p.

W każdej z podanych par podkreśl wydarzenie chronologicznie wcześniejsze (wg wzoru)

Traktat w Tylży czy traktat w Hohenlinden

- A. Bitwa pod Austerlitz czy bitwa pod Jeną,
- B. wyprawa Napoleon do Egiptu czy koronacja Napoleona na cesarza,
- C. zesłanie Napoleona na wyspę św. Heleny czy zesłanie Napoleona na wyspę Elbę.

S. Roszak, Śladami Przeszłości . Podręcznik do historii dla gimnazjum kl. III, s.89-90

Zadanie 14 0-4p.

Wykonaj polecenia związane z Księstwem Warszawskim.

A. Na mocy jakiego traktatu powstało Księstwo Warszawskie (podaj miejscowość i datę roczną).

.....

B. Podaj sygnatariuszy (władców) traktatu ustanawiającego Księstwo Warszawskie.

.....

.....

C. W którym roku został powiększony obszar Księstwa Warszawskiego?

.....

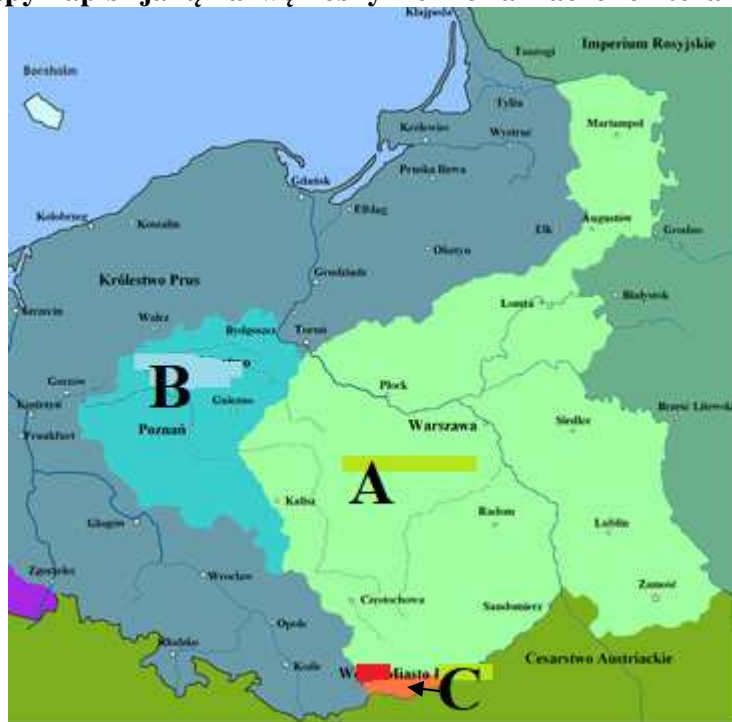
D. Jakie wydarzenie doprowadziło prawnie do likwidacji Księstwa Warszawskiego?

.....

S. Roszak, Śladami Przeszłości . Podręcznik do historii dla gimnazjum kl. III, s.98-1-101

Zadanie 15 0-3p.

Na podstawie mapy napisz jaką nazwę nosiły ziemie zaznaczone literami A, B, C



www.wikipedia.pl

A.....

B.....

C.....

S. Roszak, Śladami Przeszłości. Podręcznik do historii dla gimnazjum kl. III, s.108-109

Zadanie 16 0-2p

Podaj po dwie cechy dziewiętnastowiecznej ideologii:

A. liberalizm:

.....
.....

.....
.....

B. konserwatyzm:

.....
.....

.....
.....

S. Roszak, Śladami Przeszłości. Podręcznik do historii dla gimnazjum kl. III, s.124-125

Zadanie 17 0-3p

Podane postaci przyporządkuj do powstań narodowych.

Ignacy Prądyński,
Jan Tyssowski,
Marian Langiewicz

Edward Dembowski,
Jan Krukowiecki

Józef Chłopicki,
Stanisław Brzóska,

S. Roszak, Śladami Przeszłości . Podręcznik do historii dla gimnazjum kl. III, s. 149,159,217

| POWSTANIE LISTOPADOWE | POWSTANIE KRAKOWSKIE | POWSTANIE STYCZNIOWE |
|----------------------------------|---------------------------------|---------------------------------|
| | | |

Zadanie 18 0-1p.

Podkreśl zdanie prawdziwe:

- A. Twórcą nowożytnych igrzysk był Pierre de Coubertin.
- B. Pierwsze nowożytne igrzyska olimpijskie odbyły się w Londynie.
- C. Bracia Lumiere przyczynili się do rozwoju komunikacji konstruując telefon.

S. Roszak, Śladami Przeszłości . Podręcznik do historii dla gimnazjum kl. III, s.204-206

Zadanie 19 0-4p.

Wyjaśnij pojęcia i związki frazeologiczne:

- wóz Drzymały -

.....
.....

- biżuteria patriotyczna -

.....
.....

- rugi pruskie -

.....

.....

- noc apuchtinowska -

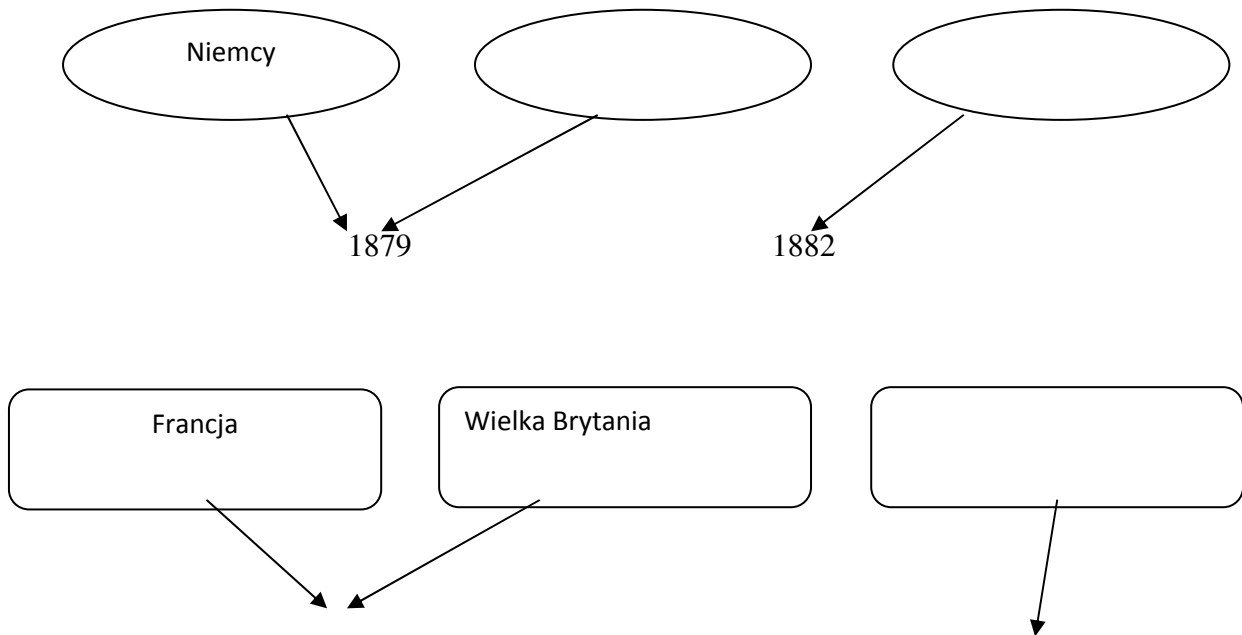
.....

.....

S. Roszak, Śladami Przeszłości . Podręcznik do historii dla gimnazjum kl. III, s.214,223-224

Zadanie 20 0-5p.

Uzupełnij schemat powstawania sojuszy: trójprzymierza i trójporozumienia wpisując państwo lub datę.



.....

S. Roszak, Śladami Przeszłości . Podręcznik do historii dla gimnazjum kl. III, s.224-225

Zadanie 21 0-2p.

Jakie państwa z czasów I wojny światowej reprezentują żołnierze przedstawieni na ilustracji .



www.dobroni.pl



www.torun.ap.gov.pl

.....
S. Roszak, Śladami Przeszłości . Podręcznik do historii dla gimnazjum kl. III, s.253

Zadanie 22 0-3p.

Podaj imię i nazwisko przedstawionych postaci na ilustracjach.



.....
S. Roszak, Śladami Przeszłości . Podręcznik do historii dla gimnazjum kl. III, s.275,267

Zadanie 23 0-4p.

Uzupełnij tabelę wpisując bitwy frontu zachodniego i wschodniego z czasów I wojny światowej. Przy każdej bitwie podaj datę roczną.

| FRONT WSCHODNI | FRONT ZACHODNI |
|----------------|----------------|
| | |
| | |

S. Roszak, Śladami Przeszłości . Podręcznik do historii dla gimnazjum kl. III, s.250-254

Zadanie 24 0-2p.

Wykonaj polecenia dotyczące sprawy polskiej w czasie I wojny światowej.

Władze niemieckie i austro-węgierskie wydały manifest z podpisami swych generalnych gubernatorów zawierających obietnicę powstania Królestwa Polskiego.

A Podaj nazwę tego dokumentu.

.....

B Podaj datę dzienną jego ogłoszenia.

.....

S. Roszak, Śladami Przeszłości . Podręcznik do historii dla gimnazjum kl. III, s.273

Zadanie 25 0-1p.

8 stycznia 1918 prezydent USA zapowiedział podczas orędzia utworzenie niezawisłego państwa polskiego z dostępem do morza. Podaj imię i nazwisko tego prezydenta.

.....

S. Roszak, Śladami Przeszłości . Podręcznik do historii dla gimnazjum kl. III, s.274

Zadanie 26 0-3p.

Na podstawie notki biograficznej wpisz imię i nazwisko postaci związanej z rewolucjami rosyjskimi.

Był rosyjskim politykiem, wywodzącym się z partii eserowców, który w lipcu 1917 r. został premierem Rządu Tymczasowego, a we wrześniu 1917 naczelnym wodzem armii rosyjskiej

.....

Był rosyjskim politykiem organizatorem rewolucji październikowej i pierwszym przywódcą Rosji Radzieckiej

.....

Był carem Rosji, który po abdykacji w 1917 r. został uwięziony w Carskim Siole pod Piotrogradem.

.....

S. Roszak, Śladami Przeszłości . Podręcznik do historii dla gimnazjum kl. III, s.263, 266

Zadanie 27 0-2p.

Podaj daty związane z I wojną światową:

a) **Przystąpienie Włoch do państw Ententy**

b) **Przystąpienie Stanów Zjednoczonych Ameryki Północnej do wojny
.....**

S. Roszak, Śladami Przeszłości . Podręcznik do historii dla gimnazjum kl. III, s.249,256

Zadanie 28 0-1p.

11 listopada 1918r podpisano rozejm kończący I wojnę światową pomiędzy Ententą i Cesarstwem Niemieckim podaj miejsce tego rozejmu.

.....

S. Roszak, Śladami Przeszłości . Podręcznik do historii dla gimnazjum kl. III, s.258