

ŁÓDZKIE
CENTRUM
DOSKONALENIA
NAUCZYCIELI
I KSZTAŁCENIA
PRAKTYCZNEGO



--	--	--	--	--

KOD UCZNIĄ

WOJEWÓDZKI KONKURS PRZEDMIOTOWY
z GEOGRAFII
DLA UCZNIÓW GIMNAZJÓW
2017/2018
ELIMINACJE REJONOWE

Wypełnia Rejonowa Komisja Konkursowa

Liczba uzyskanych punktów	
% uzyskanych punktów	

Podpisy członków RKK

.....

.....

Podpis przewodniczącego RKK

.....

Drogi Gimnazjalisto!

Przeczytaj uważnie zamieszczoną poniżej instrukcję.

1. Test zawiera **33 zadania** geograficzne różnego typu. Za poprawne rozwiązanie wszystkich zadań możesz uzyskać **60 punktów**. Jeżeli zdobędziesz co najmniej **54 punkty (90%)**, weźmiesz udział w eliminacjach wojewódzkich konkursu.
2. Zadania rozwiąż zgodnie z poleceniami.
3. Pisz czytelnie. Używaj długopisu z **czarnym** lub **niebieskim wkładem**. Pamiętaj, że prace pisane ołówkiem nie będą sprawdzane przez komisję.
4. **Nie używaj korektora**, a błędne zapisy wyraźnie przekreśl lub obwiedź kółkiem i zaznacz inną odpowiedź.
5. Podczas rozwiązywania zadań konkursowych **możesz korzystać z linijki, lupy i kalkulatora prostego**.
6. Na rozwiązanie wszystkich zadań masz **90 minut**.
7. Pracuj samodzielnie korzystając z własnej wiedzy i umiejętności!

Życzymy powodzenia!

Zadanie 1 (0 - 2p.)

Oceń prawdziwość informacji. Wpisz znak X w odpowiednie komórki tabeli.

Lp.	Informacja	Prawda	Falsz
1.	W południowej części Półwyspu Bałkańskiego występują trzy języki: grecki, turecki i albański.		
2.	Łużyczanie zamieszkują południowo – zachodnie tereny Niemiec przy granicy z Polską.		
3.	Mieszkańcy Wysp Owczych posługują się językiem farerskim należącym do grupy języków germańskich.		
4.	Rdzenny język Basków, zamieszkujących zachodnią część Pirenejów, należy do grupy romańskiej.		

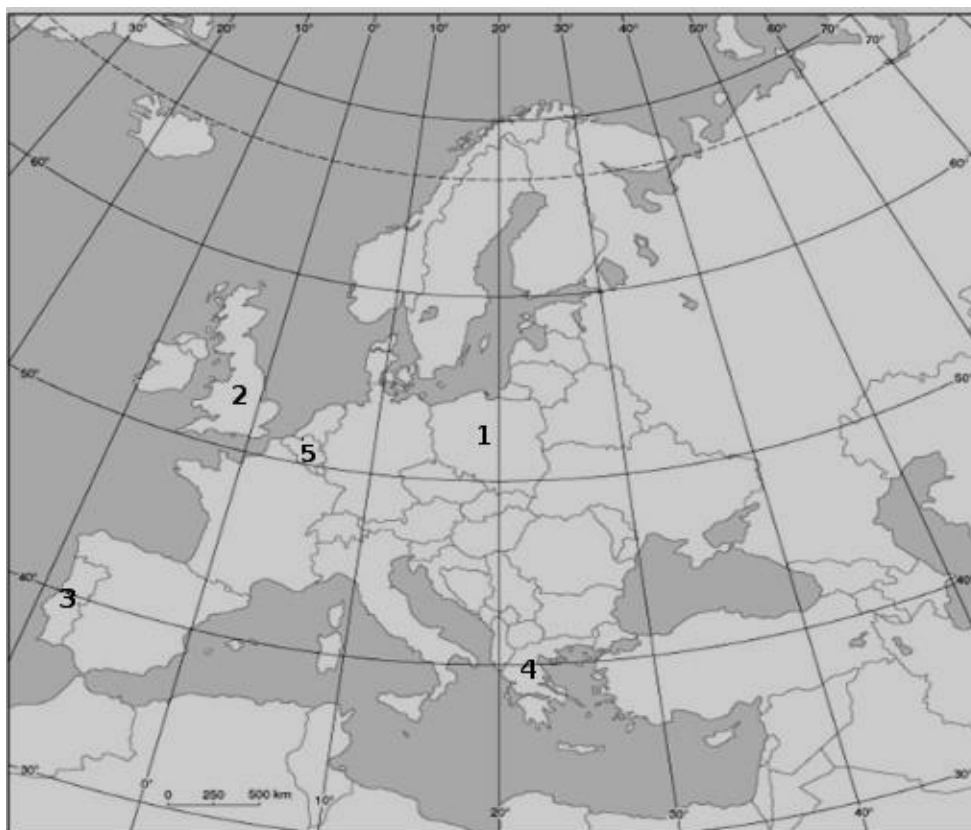
Zadanie 2 (0 - 2p.)

Podkreśl prawidłowe wyrażenie, tak aby zdanie było prawdziwe.

- A. Rolnictwo francuskie cechuje się *wysoką/niską* towarowością.
- B. W strukturze użytkowania ziemi we Francji dominują *las/grunty orne*.
- C. Chów zwierząt występuje głównie na *wyżynnych/nizinnych* obszarach Półwyspu Bretońskiego.
- D. Regionem Francji słynącym z produkcji *kukurydzy/lawendy* jest Prowansja.

Zadanie 3 (0 - 2p.)

Uzupełnij tabelę według wzoru.



Numer na mapie	Państwo		Stolica
	Wielonarodowe	Narodowe	
1.	_____	<i>POLSKA</i>	<i>WARSZAWA</i>
2.			
3.			
4.			
5.			

Zadanie 4 (0 - 2p.)

Kraje Europy Północnej cechuje duży udział produkcji energii elektrycznej z wody. Zapisz dwie przyrodnicze przyczyny rozwoju hydroenergetyki w tym rejonie Europy oraz nazwę państwa europejskiego, w którym hydroenergetyka pełni dominującą rolę w produkcji energii elektrycznej.

Przyczyny przyrodnicze

1.
2.

Nazwa państwa:

Zadanie 5 (0 - 2p.)

W Bangalur - indyjskiej Dolinie Krzemowej rozwija się przemysł high – tech. Zapisz trzy czynniki, które umożliwiają rozwój tej technopolii.

1.
2.
3.

Zadanie 6 (0 - 2p.)

Zapisz dwa czynniki, które wpłynęły na skrajnie niski poziom życia ludzi w strefie Sahelu.

1.
2.

Zadanie 7 (0 - 2p.)

W tekście skreśl błędne wyrażenia, tak aby zdania były prawdziwe.

Podstawowym źródłem pożywienia ludzi żyjących w Azji Południowo – Wschodniej jest *kukurydza/ryż*. Uprawa tego zboża związana jest z występowaniem monsunu *zimowego/letniego*. W celu zwiększenia powierzchni upraw, na obszarach górskich stosuje się *terasowanie stoków/orkę w poprzek stoków*. Uprawa tej rośliny wymaga *dużych/małych* nakładów pracy.

Zadanie 8 (0 - 1p.)

Podkreśl nazwę państwa, w którym językiem urzędowym jest portugalski.

Wenezuela Argentyna Brazylia Peru

Zadanie 9 (0 - 1p.)

Podkreśl poprawne dokończenie zdania.

Tradycyjnym domem mongolskim jest

- A. igloo. B. tipi. C. jurta. D. wigwam.

Zadanie 10 (0 - 2p.)

Fotografie przedstawiają atrakcyjne miejsca Europy Południowej. Korzystając z poniższych danych oraz własnej wiedzy uzupełnij tabelę.

Nazwy obiektów: *Alhambra, Sagrada Familia, Akropol, Koloseum*



Źródło: <https://www.architecturaldigest.com>



Źródło: <http://podroze.gazeta.pl/>



Źródło: <https://fi.wikipedia.org/>

Lp.	Nazwa obiektu	Nazwa państwa	Nazwa miasta
1.			
2.			
3.			

Zadanie 11 (0 - 2p.)

Zaproponuj dwa działania, które przyczyniłyby się do zmniejszenia tempa wylesiania Amazonii.

1.

2.

Zadanie 12 (0 - 2p.)

Na podstawie tekstu źródłowego i własnej wiedzy wykonaj polecenia.

„Od początku roku w szpitalu Banadir w Mogadiszu odnotowano 4272 przypadki ostrej biegunki, głównie wśród dzieci w wieku poniżej pięciu lat. 181 osób zmarło - powiedział w Genewie ekspert WHO Michel Yao.

Badania laboratoryjne potwierdziły, że mamy dwukrotnie lub nawet trzykrotnie więcej przypadków niż przed rokiem - wyjaśnił Yao. Możemy więc powiedzieć, że w kraju trwa epidemia cholery - ogłosił. Jest duże prawdopodobieństwo, iż choroba będzie się rozprzestrzeniać w szybkim tempie - dodał. Cholera [...] w ciągu zaledwie kilku godzin może doprowadzić do śmierci z odwodnienia.”

Źródło: www.money.pl/gospodarka/wiadomosci/artukul/po;klesce;glodu;w;somalii;wybuchla;grozna;epidemia,2,0,890626.html

A. Zapisz przyczynę występowania cholery w Afryce

B. Zapisz nazwy dwóch innych chorób występujących w Afryce.

1.

2.

Zadanie 13 (0 - 2p.)

Fotografie przedstawiają zmiany w krajobrazie przemysłowym Zagłębia Ruhry w Niemczech. Na podstawie własnej wiedzy i ilustracji wykonaj polecenia.



Źródło: www.iwoman.pl/podroze/



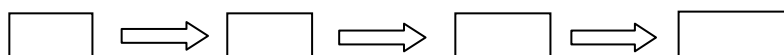
Źródło: <http://www.germany.travel/pl/miasta>

A. Zapisz nazwę procesu, który doprowadził do zmian na tym obszarze.

Nazwa procesu

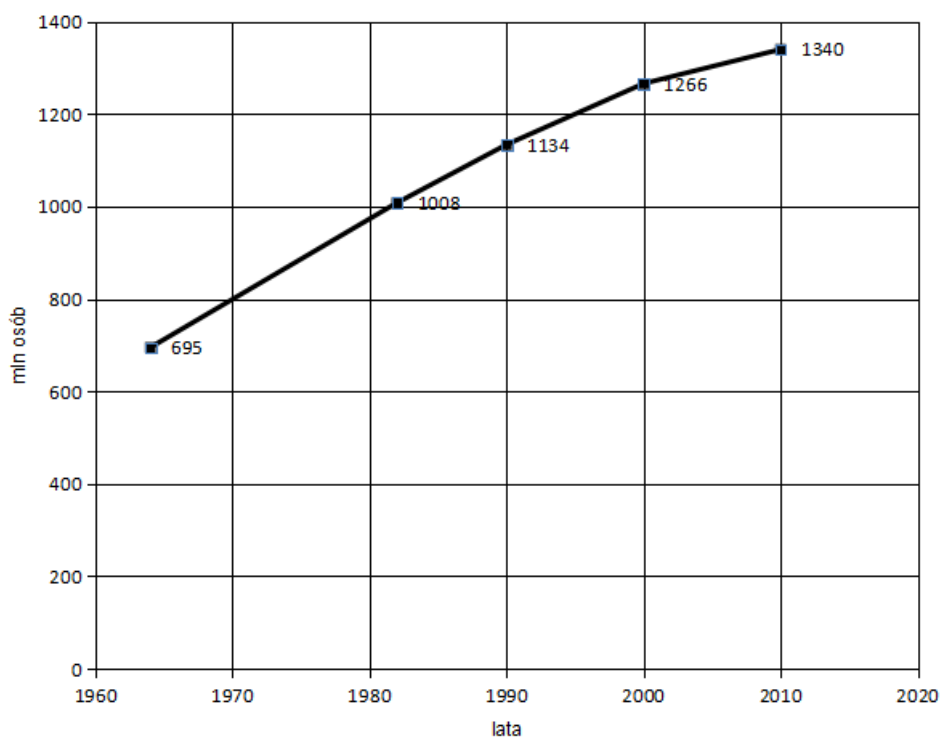
B. Uzupełnij schemat, tak aby przedstawiał kolejność zmian zachodzących w Zagłębiu Ruhry.

- a. Rozwój zaawansowanych technologii.
- b. Rozwój górnictwa węgla i hutnictwa żelaza.
- c. Rozwój usług wyższego rzędu.
- d. Rozwój przemysłu maszynowego.



Zadanie 14 (0 - 1p.)

Na podstawie wykresu zapisz wniosek dotyczący tempa rozwoju ludności w Chinach w latach 1990-2010.



Źródło: Opracowanie własne na podstawie Wikipedia.ru

Wniosek:

Zadanie 15 (0 - 2p.)

Oceń prawdziwość każdej informacji. Wpisz znak X w odpowiednie komórki tabeli.

Lp.	Informacja	Prawda	Fałsz
1.	Bliski Wschód to obszar licznych długotrwałych konfliktów.		
2.	Na Bliskim Wschodzie znajdują się największe na świecie zasoby paliw, głównie węgla kamiennego.		
3.	W regionie Bliskiego Wschodu dominującą religią jest islam.		

Zadanie 16 (0 - 2p.)

Podając trzy argumenty, wykaż związek pomiędzy gospodarką a warunkami środowiska przyrodniczego USA.

1.
.....
2.
.....
3.
.....

Zadanie 17 (0 - 2p.)

Uzupełnij tabelę według wzoru, dobierając z ramki nazwy państw.

Nazwy państw: Chiny, Japonia, USA, Wielka Brytania

Lp.	Nazwa państwa	Produkt Krajowy Brutto	
		Wartość ogólna	Udział w świecie (w%)
1.		17 bln 419 mld \$	22,5
2.		10 bln 380 mld \$	13,4
3.		4 bln 616 mld \$	6,0
4.	Niemcy	3 bln 860 mld \$	5,0

Źródło: E-podręcznik, E. Dudek, gimnazjum_klasa_3_geografia_swiat-pod-lupa_dla-nauczyciela.pdf, s 476

Zadanie 18 (0 - 2p.)

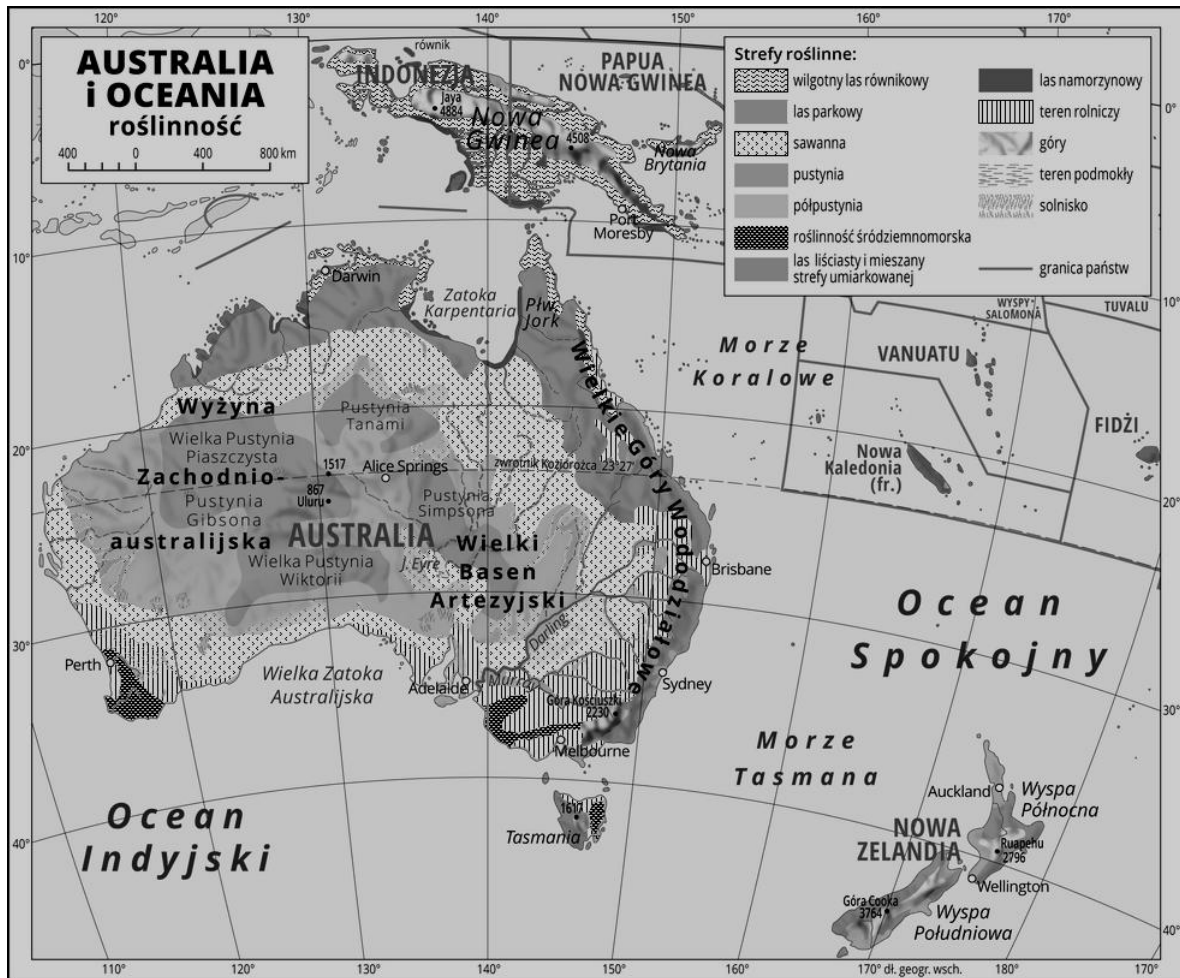
Oblicz godzinę lądowania samolotu w Barcelonie ($41^{\circ}21'N$, $2^{\circ}E$), wiedząc, że wystartował on z Warszawy ($52^{\circ}35'N$, $21^{\circ}E$) o godzinie 17^{00} , a jego lot trwał 2 godziny.

Miejsce na obliczenia:

Odpowiedź:

Zadanie 19 (0 - 2p.)

Na podstawie mapy i własnej wiedzy zapisz dwie przyrodnicze przyczyny, które doprowadziły do rozwoju hodowli owiec w Australii.



Źródło: E-podręcznik, E. Dudek. gimnazjum_klasa_3_geografia_swiat-pod-lupa_dla-nauczyciela.pdf, s 488

1.
.....
2.
.....

Zadanie 20 (0 - 2p.)

Oblicz rozciągłość południkową pomiędzy miastami Darwin a Sydney. Współrzędne geograficzne odczytaj z mapy Australii i Oceanii z zadania 19.

Współrzędne geograficzne Darwin:

Współrzędne geograficzne Sydney:

Miejsce na obliczenia:

Odpowiedź:

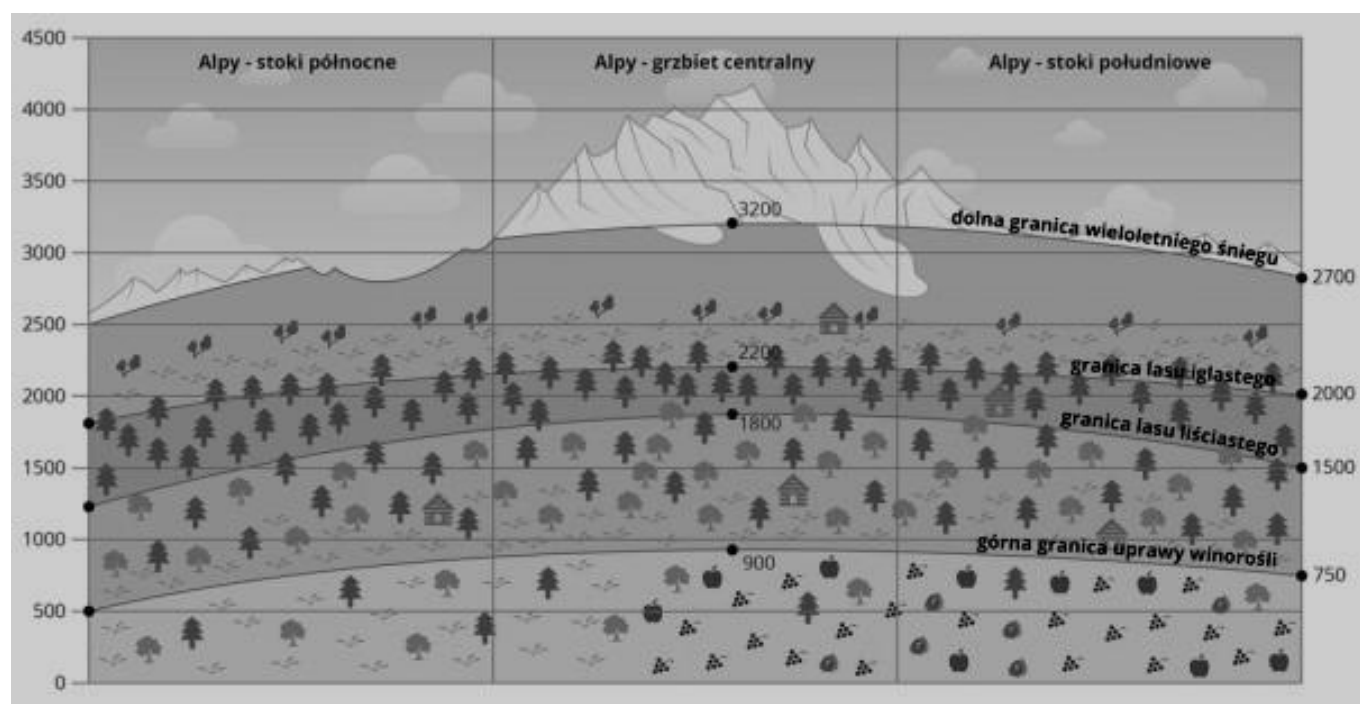
Zadanie 21 (0 - 2p.)

Uzupełnij schemat wpisując po jednym przykładzie wpływu warunków środowiska na gospodarkę państw alpejskich.



Zadanie 22 (0 - 2p.)

Korzystając z rysunku oraz własnej wiedzy wyjaśnij przyczyny zróżnicowania wysokości pięter roślinnych w Alpach.



Źródło: Edward Dudek „Świat pod lupą klasa 3, gimnazjum” 2017, e-podręcznik

Wyjaśnienie:
.....
.....

Zadanie 23 (0 - 2p.)

Zapisz dwa przyrodnicze czynniki, które są przeszkodą w rozwoju rolnictwa na północ od równoleżnika 60°N.

1.

2.

Zadanie 24 (0 - 2p.)

Wymienionym firmom japońskim przyporządkuj wytwarzane w nich produkty wybierając z ramki.

Produkty: komputery, samochody, zegarki, długopisy i mazaki, buty i odzież sportowa

Nazwa firmy	Wytwarzany produkt
 mazda	
SEIKO	
TOSHIBA	
Pentel	

Zadanie 25 (0 - 2p.)

Zapisz trzy konsekwencje zróżnicowania etnicznego i kulturowego mieszkańców Londynu.

1.

2.

3.

Zadanie 26 (0 - 2p.)

Podczas wycieczki rowerowej posługujesz się mapą w skali 1:50 000. Zamierzasz pokonać trasę 25 km. Przejechałeś już odległość odpowiadającą na mapie 28 cm. Oblicz, ile km zostało jeszcze do pokonania. Zapisz wszystkie obliczenia.

Miejsce na obliczenia:

Odpowiedź:.....

Zadanie 27 (0 - 2p.)

Oblicz szerokość geograficzną miejsca znajdującego się na półkuli północnej, w którym w dniu 21 marca wysokość Słońca w momencie górowania wynosi 20° .

Miejsce na obliczenia:

Odpowiedź:.....

Zadania z literatury

Zadanie 28 (0 - 2p.)

Oceń prawdziwość informacji. Wpisz znak X w odpowiednie komórki tabeli.

Lp.	Informacja	Prawda	Fałsz
1.	Kraj Okume to inna nazwa Ugandy.		
2.	Kraj pachnący wanilią to Madagaskar.		
3.	Kraj Aborygenów to Nowa Gwinea.		
4.	Kraj na antypodach to Nowa Zelandia.		

Zadanie 29 (0 - 2p.)

Uzupełnij tabelę wpisując nazwy miast Siedmiogrodu, wybierając z podanych w ramce.

Nazwy miast: Kluż, Sighișoara, Braşow, Sybin

Opis	Miasto
Największe po Bukareszcie miasto Rumuni. Miejsce urodzenia Macieja Korwina – jednego z węgierskich władców. Świetnie zachowana starówka z gotyckim kościołem św. Michała.	
To perła architektury – miesza się tu gotyk z barokiem i renesansem. Świątynie katolickie sąsiadują z prawosławnymi – jak piętnastowieczne Czarny Kościół i cerkiew św. Mikołaja.	
Cytadela, wieża zegarowa oraz reszta starego miasta są wpisane na listę UNESCO. Miejsce urodzenia Włada Palownika (1431 r.), pierwowzoru Drakuli.	

Zadanie 30 (0 - 1p.)

Podkreśl poprawne dokończenie zdania.

Największym portem Albanii jest

A. Kotor.

B. Durrës.

C. Wlora.

D. Saranda.

Zadanie 31 (0 - 1p.)

Fotografia przedstawia jedno z miast na Lofotach. Zapisz jego nazwę.



Źródło: Opracowanie własne

Nazwa miasta:

Zadanie 32 (0 - 1p.)

Podkreśl nazwy dwóch obiektów, które znajdują się na terenie Zakazanego Miasta.

Cesarski Pałac Letni Pawilon Najwyższej Harmonii Ogród Cesarski Plac Niebiańskiego Spokoju

Zadanie 33 (0 - 2p.)

Oceń prawdziwość każdej informacji. Wpisz znak X w odpowiednie komórki tabeli.

Lp.	Informacja	Prawda	Fałsz
1.	W latach 1898 – 1902 w pobliżu miasta Kom Ombo zbudowano pierwszą betonową tamę asuańską.		
2.	Podstawowym minusem wybudowania Wielkiej Tamy jest brak wylewów Nilu poniżej Asuanu.		
3.	Poniżej tamy woda jest bardziej brudna i rwąca, co powoduje szybszą akumulację i erozję brzegów.		
4.	Na dnie Zbiornika Nasera osadza się dużo namulów, które powoli zmniejszają jego objętość.		