

WOJEWÓDZKI KONKURS PRZEDMIOTOWY
Z HISTORII I SPOŁECZEŃSTWA
DLA UCZNIÓW SZKÓŁ PODSTAWOWYCH
2016/2017

TEST
ELIMINACJE SZKOLNE

Numer identyfikacyjny

--

Wypełnia Szkolna Komisja Konkursowa

Imiona i nazwisko

Wypełnia Szkolna Komisja Konkursowa

	Razem	
Punkty do uzyskania	75	w %
Punkty uzyskane		

Czas trwania testu: **60 minut** bez przerwy

.....

INSTRUKCJA DLA UCZESTNIKÓW:

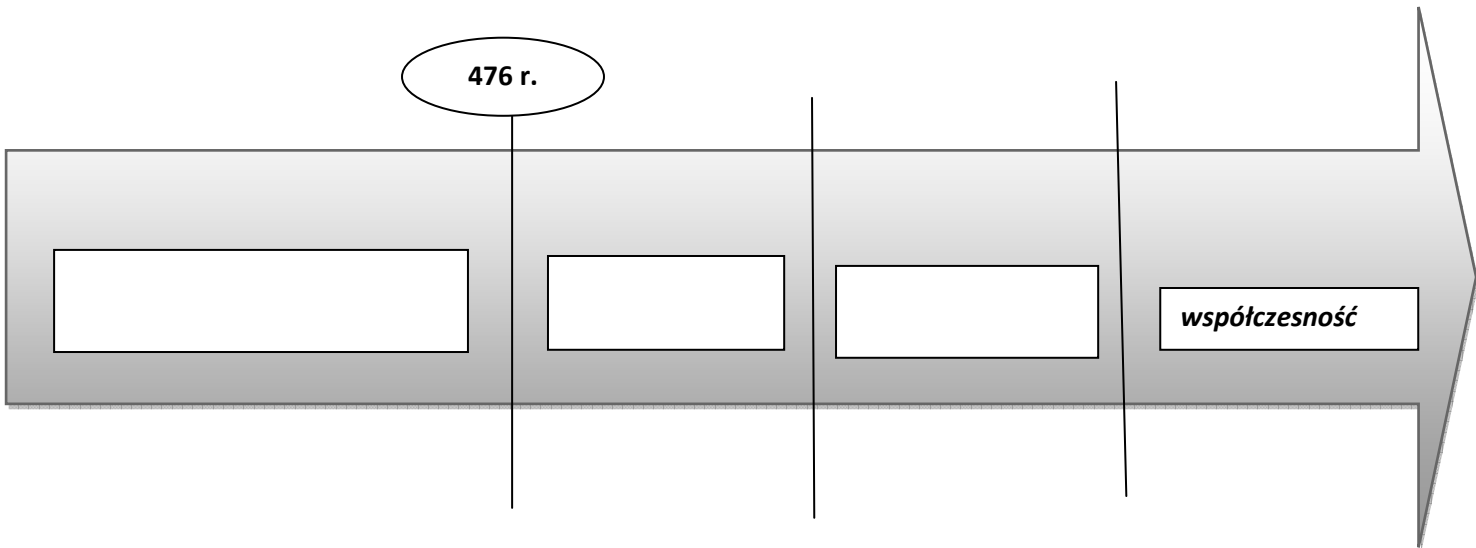
Masz przed sobą test, który zawiera zadania otwarte i zamknięte. Pamiętaj! W pytaniach zamkniętych należy podkreślić prawidłową odpowiedź.

W sytuacji, gdy uznasz, że źle zaznaczyłaś/es odpowiedź skreśl ją i podkreśl prawidłową. W każdym zadaniu może być tylko jedna poprawka! Czytaj uważnie każde polecenie.

POWODZENIA!

Zadanie 1 (0-3p.)

Uzupełnij taśmę czasu nazwami epok historycznych:



Zadanie 2 (0-3p.)

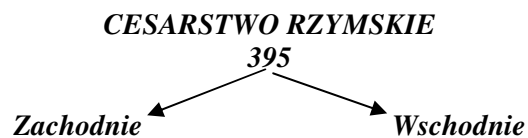
Spośród podanych wyrazów wybierz właściwe i wpisz w odpowiednim miejscu tabeli.

Babilończycy Sumerowie Egipcjanie Hellenowie Rzymianie

Pismo klinowe	Pismo hieroglificzne	Alfabet łaciński

Zadanie 3 (0-6p.)

Uzupełnij schemat:



język:
stolica:
data upadku:

Zadanie 4 (0-4p.)

Wpisz we właściwe miejsca na mapie nazwy plemion:

Polanie, Wiślanie, Mazowszanie, Pomorzanie



Zadanie 5 (0-3p.)

Wyjaśnij pojęcia :

A. postrzyżyny -

.....

B. wiec -

.....

C. gród -

.....

Zadanie 6 (0-1p.)

Spośród podanych legend podkreśl tę, która opowiada o postrzyżynach:

o Lechu, Czechu i Rusie

o Popielu

o Piaście Kołodzieju

o Kraku i Wandzie

Zadanie 7 (0-5p.)

Uzupełnij tekst związany z rządami Mieszka I.

W 965 r. Mieszko I poślubił córkę księcia czeskiego, księżniczkę o imieniu

W r. przyjął chrzest z rąk biskupa

W związku z tą uroczystością powstało biskupstwo w

W roku Mieszko I i jego brat Czcibor pokonali niemieckich margrabiów w bitwie pod Cedynią.

Zadanie 8 (0-5p.)

Wyjaśnij przydomki poszczególnych władców. Przy władcach koronowanych wpisz daty roczne koronacji.

Bolesław Chrobry -

.....
.....

Bolesław Szczodry -

.....
.....



Bolesław Krzywousty -

.....
.....

Zadanie 9 (0-2p.)

Do każdej ilustracji przyporządkuj odpowiednie określenia.

- hejnał mariacki; podbój plemion pruskich; jasyr; bitwa pod Płowcami;*
bitwa pod Legnicą; budowa zamku w Malborku; wielki mistrz; orda

 <p>www.scholaris.pl</p>	 <p>Wojownik mongolski www.szkolnictwo.pl</p>

Zadanie 10 (0-4p.)

Wykonaj polecenia związane z panowaniem Władysława Łokietka.

A. Podaj datę roczną i miejsce koronacji Władysława Łokietka.

.....
.....

B. Wyjaśnij pojęcie *Szczerbiec*.

.....
.....
.....
.....

C. Napisz, z jakim wcześniejszym władcą, według legendy, związany jest *Szczerbiec*.

.....

Zadanie 11 (0-3p.)

Dokończ zdania związane z panowaniem ostatniego Piasta.

W czasach Kazimierza Wielkiego, Polska była wielkim eksporterem soli, wydobywanej w Bochni i Wieliczce. Miejsca te nazywano w średniowieczu

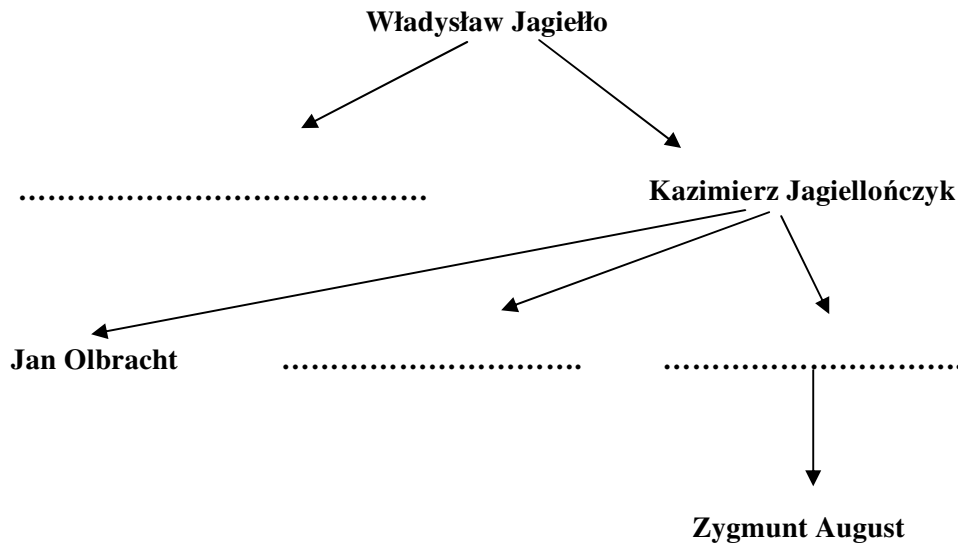
Kazimierz Wielki założył pierwszy w Polsce uniwersytet, który początkowo nosił nazwę

.....

Podczas zjazdu władców europejskich zorganizowano ucztę u mieszczanina krakowskiego

.....

Zadanie 12 (0-3p)
 Uzupełnij drzewo genealogiczne.



Zadanie 13 (0-3p)
 Na podstawie drzewa genealogicznego odpowiedz na pytania.

A. Kim dla Zygmunta Augusta był Kazimierz Jagiellończyk?

.....

B. Kim dla Władysława Jagiełły był Zygmunt August?

.....

C. Wymień synów Kazimierza Jagiellończyka, którzy zasiadali na tronie Polski?

.....

Zadanie 14 (0-4p.)
 Ułóż chronologicznie wydarzenia związane z Wielką Wojną z Zakonem Krzyżackim (1409 - 1411) wpisując litery: A, B, C, D we właściwe pola tabeli.

- A. śmierć wielkiego mistrza Ulricha von Jungingena
- B. zajęcie Żmudzi przez Krzyżaków
- C. oblężenie Malborka
- D. przeprawa wojsk przez Wisłę po moście pontonowym

1	2	3	4

Zadanie 15 (0-2p.)

Wykonaj polecenia związane z postacią przedstawioną na portrecie.



www.sodalicja.org.pl

A. Podpisz portret władczyni Polski.

.....

B. Napisz, czym zasłynęła przedstawiona postać.

.....

.....

.....

.....

.....

Zadanie 16 (0-3p.)

Odpowiedz na pytania związane z panowaniem Kazimierza Jagiellończyka.

A. Który kronikarz był wychowawcą synów Kazimierza Jagiellończyka?

.....

B. Wymień państwo z którym Polska walczyła w wojnie trzynastoletniej.

.....

C. Wymień dwie ziemie jakie Polska odzyskała po II pokoju toruńskim.

.....

Zadanie 17 (0-2p.)

Odpowiedz na pytania związane z konstytucją Nihil novi.

A. W którym roku uchwalono dokument?

.....

B. Przetłumacz nazwę dokumentu.

.....

Zadanie 18 (0-5p.)

Wykonaj polecenia związane z architekturą renesansową w Polsce.

A. Spośród podanych nazw zabytków wybierz właściwą i wpisz przy odpowiedniej ilustracji (ratusz w Poznaniu, ratusz w Zamościu, kaplica Zygmuntowska na Wawelu, Sukiennice w Krakowie).



www.wikipedia.pl



www.wikipedia.pl

.....

.....

B. Na podstawie ilustracji i wiedzy własnej wymień trzy cechy architektury renesansowej.

.....

.....

.....

Zadanie 19 (0-1p.)

Napisz pełną nazwę wspólnego państwa polsko – litewskiego od 1569 r.

.....

Zadanie 20 (0-1p.)

Napisz, czym różni się elekcja od wolnej elekcji.

.....

.....

.....

.....

.....

.....

.....

Zadanie 21 (0-3p.)

Wymień trzech pierwszych królów elekcyjnych Rzeczypospolitej Obojga Narodów.

- A.
- B.
- C.

Zadanie 22 (0-2p.)

Wykonaj polecenia związane z przeniesieniem stolicy z Małopolski do Mazowsza.

A. Podkreśl portret króla, który przeniósł stolicę z Krakowa do Warszawy.



www.wikipedia.pl

B. Podaj jedną z przyczyn przeniesienia stolicy do Warszawy.

.....
.....
.....

Zadanie 23 (0-3p.)

Wymień trzy państwa z którymi Polska toczyła wojny w XVII w.

- A.
- B.
- C.

Zadanie 24 (0-3p.)

Wyjaśnij pojęcia związane z wojnami XVII w.

- A. Husaria -
- B. Potop -
- C. Odsiecz -

Zadanie 25 (0-1p.)

Odpowiedz *tak* lub *nie*.

Czy Polska utraciła Gdańsk w wyniku I rozbioru na rzecz Prus?

.....

BRUDNOPIS